

TAVŞAN VE KAPLUMBAĞA

Tavşan ikide bir böbürleniyor:

-Kimse benden hızlı koşamaz, diyormuş.

Sonunda kaplumbağa dayanamamış:

-İstersen yarışalım, demiş.

Koşuya başlamışlar. Tavşan epeyce yol aldıktan sonra:

"Hıh, o sırtı kabuklu hayvancık sürüne sürüne kim bilir ne kadar zaman sonra bana yetişir." diye düşünmüş. "Şu ağacın altında biraz uzanıp dinleneyim. "

Tavşan ağacın altında uyuyakalmış.

Kaplumbağa ağır yürüyüşü ile yürümüş yürümüş, hiç dinlenmeden yol almış.

Tavşan bir ara gözünü açmış; bir de ne görsün! Kaplumbağa neredeyse yarışı bitirmek üzereymiş. Hemen fırlamış, rüzgâr gibi koşmaya başlamış. Ama ne çare, kaplumbağaya yetişememiş.

Böylece tavşan yarışı kaybetmiş. Aldırış etmemenin cezasını çekmiş.

SORULAR

S1.Tavşan hangi özelliği ile böbürleniyor-muş?

S2.Yarışı kim kazanmış?

S3.Metinde anlatılan hayvanlar arasında aşağıdakilerden hangisi yoktur?

a) Aslan b) Tavşan c) Kaplumbağa

S4.Verilen cümlelerin hangisinin sonuna farklı bir noktalama işareti konulur?

a) Zil çaldı mı ()

b) Karnım çok acıktı ()

c) Ödevlerini yapıyor musun ()

S5. " Babam.....okuyor. "

Cümlesinde noktalı yere hangi kelime yazılamaz?

a) gazete

b) kitap

c) kahve

S6. Verilen sözcüklerin harf (ses)

sayılarını yazalım. (Kaç harf?)

arkadaşımız

yanıtlar

S7.Verilen sözcük satır sonuna sığmadığında nasıl yazılır, gösterelim.

yürümüş

→

S8.Verilen iki sözcükten, sözlükte daha önce yazılanı bul ve boya.

düşünce

sürücü

rüzgâr

kabuklu

S9.Başta verilen sözcüklerin zıt (karşıt) anlamlarını yan taraftan bul ve boya.

kirli

→

uzak

kızgın

temiz

hayal

→

gerçek

şahit

çıkış

bayat

→

uzun

taze

ödül

Verilen metni bol bol oku ve dikte ile defterine yaz. Soruları defterine yazmana gerek yok.

S1. Aşağıdaki ritmik saymada boş bırakılan kutulara uygun sayıları yazalım.

Geriye 1'er sayma:

S2. 4 tokam vardı. Annemin verdiği tokalarla 11 tokam oldu. Annem bana kaç toka verdi?

- a) 7 b) 8 c) 9

S3. $3 + \square = 5$

$\star + 2 = 9$

Yukarıdaki toplama işlemlerinde verilmeyenlerin toplamı kaçtır?

- a) 9 b) 5 c) 13


S4. Çıkarma işlemlerini yapalım.


$$\begin{array}{r} 5 \\ - 0 \\ \hline \end{array} \quad \begin{array}{r} 8 \\ - 7 \\ \hline \end{array} \quad \begin{array}{r} 4 \\ - 4 \\ \hline \end{array} \quad \begin{array}{r} 9 \\ - 6 \\ \hline \end{array}$$


$$13 - \square = 10 \quad 8 - \square = 1$$


S5. Sıra sayısının belirttiği varlığı boya.

→

7. 

1. 

9. 

4. 

S6. Harçlığımın 7 lirasını harcadım. Geriye cebimde 5 liram kaldı. Harcamadan önce kaç liram vardır?

S7. Bir kümeste 14 tane civciv vardır. Civcivlerin 6 tanesi dışarı çıktı. Kümeste kaç civciv kaldı?

- a) 20 b) 9 c) 11

S8. Hangi seçenekteki işlemin sonucu diğerlerinden farklıdır?

- a) $12 + 8$ b) $15 + 5$ c) $18 + 1$

S9. Toplama işlemlerini yapalım.

$$\begin{array}{r} 9 \\ + 4 \\ \hline \end{array} \quad \begin{array}{r} 5 \\ + 3 \\ \hline \end{array} \quad \begin{array}{r} 8 \\ + 2 \\ \hline \end{array} \quad \begin{array}{r} 7 \\ + 7 \\ \hline \end{array}$$

$$8 + \square = 16 \quad 3 + \square = 8$$

$$\square + 5 = 12 \quad \square + 7 = 10$$

S10. Aşağıda verilen sayılardan başlayıp birer birer geriye doğru yazalım.

7						
16						
9						
11						

S11. Ömer, 12 kurabiyesinin 4 tanesini kardeşine verdi. Ömer'e kaç kurabiye kalır?