

## YILDIZ SAYMACA

Balkonda oturuyorduk. Güneş battı, akşam oldu. Gece başladı. Her yeri karanlık bastı.

Annem:

-Yücel, görüyor musun? Yıldızlar pırıl pırıl parlıyor, dedi.

Yıldızlara baktık. Yıldızlar bize uzaktan göz kırptıyordu. Babamla ben yıldız saymaca oynadık. Babam, bir solukta çok yıldız saydı. Saymayı bitirince :

-Masal masal maliki.Yıldız saydım on iki diye güldü.

Sonra yıldızları ben saymaya başladım :

-Bir, iki, üç, dört diye hızlı hızlı sayıyordum. Bazı yıldızlar :

-Yücel, bizi unuttun dediler.

Yıldızları saydım, saydım bitiremedim.Sonunda yoruldu. Yavaş yavaş sayarken uyu-  
yup kalmışım. Sabah kalktığımda Güneş Anneme merakla sordum :

-Anneciğim, yıldızlar nereye gitti?

Annem, güzel güzel anlattı :

-Yıldızlar bir yere gitmedi. Güneş, doğunca gündüz başladı. Güneş, gündüzleri gökyüzünü aydınlatır. Onun için yıldızları göremeyiz, dedi.

## SORULAR

S1.Bazı yıldızlar çocuğa ne demiş?

S2.Çocuk ve babası hangi oyunu oynamış?

S3. Aşağıdaki kelimelerin hangisinde dört sestem oluşan bir hece vardır?

a) kümes b) parkta c) dağlar

S4. Aşağıdaki cümlelerin hangisinin sonuna farklı bir noktalama işareti konur?

a) Dün gece erkenden uyudum ( )

b) Arzu da bizimle mi gelecek ( )

c) Okullar ne zaman açılacak ( )

S5.Başta verilen sözcüklerin eş anlamlarını yan taraftan bul ve boya.

şair	→	kalem	kanıt	ozan
------	---	-------	-------	------

güçlü	→	kuvvetli	kötü	ters
-------	---	----------	------	------

öğrenci	→	ödev	talebe	merasim
---------	---	------	--------	---------

baş	→	yürek	uyarı	kafa
-----	---	-------	-------	------

S6.Verilen iki sözcükten, sözlükte daha önce yazılanı bul ve boya.

haklı	doku	yayın	jelatin
-------	------	-------	---------

leblebi	şömine	fren	imza
---------	--------	------	------

S7.Başta verilen sözcüklerin zıt (karşıt) anlamlarını yan taraftan bul ve boya.

gidiş	→	dönüş	var	hasta
-------	---	-------	-----	-------

cesur	→	cevap	korkak	satış
-------	---	-------	--------	-------

önce	→	yanlış	sonra	geveze
------	---	--------	-------	--------

Verilen metni bol bol oku ve dikte ile defterine yaz. Soruları defterine yazmana gerek yok.

S1. Aşağıdaki ritmik saymada boş bırakılan kutulara uygun sayıları yazalım.

Geriye 1 ' er sayma:

S2. 8 fındığım vardı . Ablamın verdiği fındıklarla 17 fındığım oldu. Ablam bana kaç fındık vermiş oldu?

- a) 11      b) 9      c) 6

S3.Emrah 17 yaşındadır. Caner, Emrah'tan 4 yaş küçüktür. Buna göre, Caner kaç yaşındadır?

- a) 22      b) 15      c) 13

S4.Çıkarma işlemlerini yapalım.


-	4	6
10		
19		
8		


$$\begin{array}{r} 9 \quad 7 \\ - 2 \quad - 5 \\ \hline \end{array}$$


$$11 - \square = 5$$


$$4 - \square = 0$$


S5.Sıra sayısının belirttiği varlığı boya.



6. 

2. 

8. 

5. 

S6. Zıpzip Kurbağa önce 9, sonra da 6 kez zıpladı. Bay Zıpzip, kaç kez zıplamış oldu?

S7. Bir atın ayakları sayısının 6 fazlası kaçtır?

- a) 10      b) 12      c) 7

$$11 + 8$$

$$10 + 6$$

$$18 + 0$$

S8. Hangi kutucuktaki işlemin sonucu diğerlerinden daha büyüktür?

- a)       b)       c) 

S9.Toplama işlemlerini yapalım.

+	3	9
5		
2		
6		

$$\begin{array}{r} 4 \quad 8 \\ + 7 \quad + 8 \\ \hline \end{array}$$

$$6 + \square = 12$$

$$\square + 4 = 9$$

S10. Aşağıda verilen sayılardan başlayıp birer birer geriye doğru yazalım.

8						
4						
17						
12						

S11. Buse'nin yaşı 12, kardeşi Leyla'nın yaşı ise 4 ' tür. Buna göre, iki kardeş arasında kaç yaş fark vardır?