

Dostluk

Annem, babam ve öğretmenim dostluğun ne kadar önemli olduğunu anlatır. Güzel anıları, üzücü olayları, hayalimizdeki ilkleri hep dostlarımızla yaşarız.

Ben yedi yaşındayım. Büyüklerimizin anlattığı dostluğu sevdiğim arkadaşlarımla yaşıyorum. Onlar benim mutlu olduğumu gördüklerinde daha mutlu oluyor, ben de onların mutluluğunu gördüğümde seviyorum.

Bizim sevimli bir köpeğimiz var. Onun adı " Şimşek" . Onu çok seviyorum. Biliyorum ki hayvanlar da bizim en yakın dostumuz olabilir.

SORULAR

S1. Metindeki çocuğun yaşı kaçtır?

S2. Çocuğun köpeğinin adı nedir?

S3. Kimler dostluğun önemi hakkında çocuk ile konuşuyor?

S4. Metne göre, dostlarımızla aşağıdakilerden hangisini yaşamayız?

- a) hayalimizdeki ilkleri
b) kutladığımız doğum günlerini
c) güzel anıları

S5.

Yukarıdaki harflerle aşağıdaki sözcüklerden hangisi yazılamaz?

- a) parti b) kitap c) takip

S6. Hangi kelime doğru hecelenmiştir?

- a) Ke-le-be-k b) Kele-bek c) Ke-le-bek

S7. Hangisinin sonuna soru işareti konmaz?

- a) ne b) dur c) kaç

S8. Aşağıdaki kelimelerin hece sayılarını boş dairenin içine yazalım.

taban olmayacak

S9. Özel isimlere gelen ekleri kesme işareti ile ayırıp doğru bir şekilde yazalım.

Avrupadan →

Urasın →

S9. Verilen sözcükleri hece ve seslerine ayırarak yazalım.

Kelimeler	Heceleri	Tüm Sesleri (Harf)
boşluklar		
nezle		

S10. Verilen tekil sözcükleri çoğul olarak yazalım. (-lar, -ler)

deniz →

tuğla →

Verilen metni bol bol oku ve dikte ile defterine yaz. Soruları defterine yazmana gerek yok.




S1. Aşağıdaki ritmik sayılarda boş bırakılan kutulara uygun sayıları yazalım.

Geriye 2 'şer sayma:

20			
----	--	--	--

12						
----	--	--	--	--	--	--

S2. Kovadaki 20 balığın 14 tanesi satıldı. Kovada kalan balıklar hangi seçenekteki kadardır?

- a) 
- b) 
- c) 

S3. Aşağıdaki işlemlerden hangisinin sonucu $7 + 4$ işleminin sonucuna eşittir?

- a)
$$\begin{array}{r} 9 \\ + 3 \\ \hline \end{array}$$
- b)
$$\begin{array}{r} 6 \\ + 5 \\ \hline \end{array}$$
- c)
$$\begin{array}{r} 8 \\ + 7 \\ \hline \end{array}$$

S4. Çıkarma işlemlerini yapalım.

$$\begin{array}{r} 7 \\ - 2 \\ \hline \end{array} \quad \begin{array}{r} 8 \\ - 5 \\ \hline \end{array} \quad \begin{array}{r} 4 \\ - 4 \\ \hline \end{array} \quad \begin{array}{r} 9 \\ - 6 \\ \hline \end{array}$$

$$6 - \square = 2 \quad 7 - \square = 4$$

S5. Aşağıda verilen sayıları 10 ' a tamamlayan rakamları yazalım.

$$5 + \square = 10 \quad 6 + \square = 10$$

$$\square + 3 = 10 \quad \square + 8 = 10$$

$$1 + \square = 10 \quad 0 + \square = 10$$

S6. 5 simit, 7 simit ve 2 simit toplanırsa kaç simitimiz olur?

$$\begin{array}{r} 9 \\ + 0 \\ \hline \blacksquare \end{array} \quad \begin{array}{r} 6 \\ + 2 \\ \hline \ominus \end{array} \quad \begin{array}{r} 5 \\ + 3 \\ \hline \blacksquare \end{array}$$

S7. Hangi sembole gösterilen işlemin sonucu diğerlerinden daha büyüktür?

- a) \blacksquare b) \ominus c) \blacksquare

S8. " $6 + 8, \dots, \dots$ eder " ifadesinde boş bırakılan yere hangi sayı yazılmalıdır?

- a) 12 b) 13 c) 14

S9. Toplama işlemlerini yapalım.

$$\begin{array}{r} 6 \\ + 2 \\ \hline \end{array} \quad \begin{array}{r} 8 \\ + 7 \\ \hline \end{array} \quad \begin{array}{r} 9 \\ + 4 \\ \hline \end{array} \quad \begin{array}{r} 3 \\ + 0 \\ \hline \end{array}$$

$$5 + \square = 9 \quad 7 + \square = 12$$

S10. Aşağıda verilen sayılardan başlayıp birer birer geriye doğru yazalım.

4									
11									
20									
16									

S11. 14 balığın bulunduğu akvaryumdan 5 balığı çıkarırsak, geriye kaç balığımız kalır?