

Nokta ve Arkadaşları

Benim adım nokta. Cümleleri ben bitiriveririm. Yardımcılarım ünlem işareti, soru işareti, üç nokta işareti gibi arkadaşlarıdır. Eyvah ! Virgülü unutmamak lazım. Virgül cümleleri bitirmez ama o da benim en iyi arkadaşımıdır. Beni konuşturan kim biliyor musunuz? Küçük bir kız. Onun adı Nisa'dır. Özel isimlere takılan bir kurdele gibi kesme işareti dostumu da unutmamalıyım. Dostlarım hepinizi çok özledim ve çok seviyorum.

SORULAR

S1.Noktayı konuşturan kimdir?

S2. Noktanın dostu olan noktalama işaretleri hangileridir?

S3. Özel isimlere kurdele gibi takılan hangi işarettir?

S4. Metinde hangi noktalama işaretinden **bahsedilmez?**

- a) Tırnak işareti
- b) Ünlem işareti
- c) Üç nokta işareti

S5. Sonuna nokta konulması gereken cümle aşağıdakilerden hangisidir?

- a) Ödevlerin bitiyor mu
- b) Annem eve yeni geldi
- c) Okul eve uzak mı

S6. " Ahmet ve Aylin, Antalya' da doğdu. " cümlesinde kaç tane özel isim vardır?

- a) 3
- b) 4
- c) 5

S7. Aşağıda verilen sözcüklerden hece sayısı aynı olanları eşleştirelim.

para	•	•	kart
etkinlik	•	•	tatil
spor	•	•	araba

S6. Aşağıda verilen sözcüklerden harf (ses) sayısı aynı olanları eşleştirelim.

örnek	•	•	Türkçe
yazıcı	•	•	beş
anı	•	•	servis

S7." Bazıları aramızdan erken ayrıldı. "

*Cümlesi harften (sestem) oluşur.

*Cümlesi heceden oluşur.

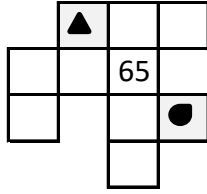
Verilen metni bol bol oku ve dikte ile defterine yaz. Soruları defterine yazmana gerek yok.

S1. Aşağıdaki ritmik sayılarda boş bırakılan kutulara uygun sayıları yazalım.

İleriye 5 ' şer sayma:

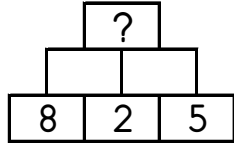
5			20						
---	--	--	----	--	--	--	--	--	--

S2. Yanda yüzlük tablonun bir kısmı verilmiştir. Buna göre, sembolle işaretli kısımlarda hangi sayılar yer alır?



a) 54 - 76 b) 45 - 64 c) 43 - 66

S3. Yanda verilen sayıları aşağıdan yukarıya doğru toplarsak sonuç kaç olur?



a) 15 b) 17 c) 19

S4. Çıkarma işlemlerini yapalım.

-	2	8
14		
8		
19		
11		

15	6			
- 4	- 5			
<table border="1" style="display: inline-table; vertical-align: middle;"><tr><td></td><td></td></tr></table>			<table border="1" style="display: inline-table; vertical-align: middle;"><tr><td></td></tr></table>	
9 - <table border="1" style="display: inline-table; vertical-align: middle;"><tr><td></td></tr></table> = 2				
6 - <table border="1" style="display: inline-table; vertical-align: middle;"><tr><td></td></tr></table> = 3				

S5. Aşağıda verilen toplama işlemlerinde toplanan sayıların yerini değiştirerek toplamları yeniden hesaplayalım.

$\begin{array}{r} 7 \\ + 5 \\ \hline \end{array}$	$\begin{array}{r} 4 \\ + 2 \\ \hline \end{array}$
$\begin{array}{r} 8 \\ + 3 \\ \hline \end{array}$	$\begin{array}{r} 5 \\ + 1 \\ \hline \end{array}$


$\begin{array}{r} 9 \\ + 8 \\ \hline \end{array}$	$\begin{array}{r} 6 \\ + 3 \\ \hline \end{array}$
$\begin{array}{r} \square \\ + \square \\ \hline \end{array}$	$\begin{array}{r} \square \\ + \square \\ \hline \end{array}$

$\begin{array}{r} 9 \\ + 8 \\ \hline \end{array}$	$\begin{array}{r} 6 \\ + 3 \\ \hline \end{array}$
$\begin{array}{r} \square \\ + \square \\ \hline \end{array}$	$\begin{array}{r} \square \\ + \square \\ \hline \end{array}$

S6. " 5 " ten bir önce ve bir sonra gelen sayıların toplamı kaçtır?

a) 16 b) 10 c) 8

S7. Yanda verilen şeklin onluk ve birlik olarak ifadesi hangisidir?



a) 1 onluk 1 birlik
b) 1 onluk 4 birlik
c) 1 onluk 2 birlik

S8. Toplama işlemlerini yapalım.

+	5	4
6		
13		
7		
2		

13	8				
+ 6	+ 5				
<table border="1" style="display: inline-table; vertical-align: middle;"><tr><td></td><td></td></tr></table>			<table border="1" style="display: inline-table; vertical-align: middle;"><tr><td></td><td></td></tr></table>		
9 + <table border="1" style="display: inline-table; vertical-align: middle;"><tr><td></td></tr></table> = 13					
<table border="1" style="display: inline-table; vertical-align: middle;"><tr><td></td></tr></table> + 8 = 10					

S9. Aşağıda verilen sayılardan başlayıp birer birer geriye doğru yazalım.

14					
5					
9					

S10. Aydın 9 lirasının, 3 lirasını 1.teneffüste, 2 lirasını da 2.teneffüste harcadı. Aydın'ın kaç lirası kalmış olur?