

## DAYANIŞMA

Havalar ısınca karınca gözlerini açtı. Yuvasından çıktı. Bahar gelmişti. Her taraf yemyeşildi. "Biraz dolaşayım." dedi. Yürüdü, az sonra gök gürlledi. Yağmur yağmaya başladı. Ne yapacağını şaşırıldı. Sular onu göle yuvarladı. Bir yaprağın üzerine düştü. "İmdat, imdat!" diye bağırdı. Sesini arı duydu. Koştı, karıncalara haber verdi. Karıncalar toplandılar. Kelebek ve arılardan yardım istediler. Arı ve kelebekler, "Severek yardım ederiz." dediler. Gün boyu karıncayı aradılar. Akşama doğru bir kelebek, "İşte, işte!" diye bağırdı. Karınca, yaprağın üzerinde akıntıyla sürükleniyordu. "Korkma, seni kurtaracağız!" dediler. Arılar ve kelebekler yaprak ve ağaç dallarını getirdiler. Gölün ağzına bıraktılar. Karıncalar da kum artıklarını yığdılar. Yaprtağın sürüklenişini durdurdular. Bir arı da karıncayı yaprağın üzerinden aldı. Karınca, dayanışma sayesinde ölümden kurtulmuştu. Arkadaşlarına teşekkür etti. Bir daha onlardan habersiz bir yere gitmeyeceğini söyledi.

## SORULAR

S1. Hikâye hangi mevsimde yaşanmıştır?

S2. Hikâyede hangi hayvanların dayanışması anlatılmaktadır?

S3. Akıntıya kapılan karınca neye tutunarak kurtulmuştur?

a) yaprağa b) otlara c) dallara

S4. Aşağıdaki cümlelerin hangisinin sonuna farklı bir noktalama işareti konur?

- a) Bahçeden fazla uzaklaşma ( )  
 b) Birbirimize bilmeceler sorduk ( )  
 c) Ne yapacaksın o iplerle ( )

S5. Başta verilen sözcüklerin eş anlamlarını yan taraftan bul ve boya.

sevinç	→	ırad	minik	mutluluk
sihhat	→	okul	sağlık	mektup
tümce	→	cümle	kitap	masal
armağan	→	özlem	hediye	güz

S6. Verilen cümlede yapılan yazım yanlışlarını düzelterek yeniden yazalım.

ankara türkiyenin başkentidir ?


S7. Başta verilen sözcüklerin zıt (karşıt) anlamlarını yan taraftan bul ve boya.

kış	→	ilkel	yaz	çizme
dağınık	→	düzenli	nazik	eğri
suçlu	→	ayaz	masum	eksi

Verilen metni bol bol oku ve dikte ile defterine yaz. Soruları defterine yazmana gerek yok.

S1. Aşağıdaki ritmik saymada boş bırakılan kutulara uygun sayıları yazalım.

Geriye 1'er sayma: 

15						9				
----	--	--	--	--	--	---	--	--	--	--

S2. İkiser ritmik sayma yaparken "14"ten sonra söylenen sayı hangisidir?

- a) 12      b) 10      c) 16

S3. Yandaki tabloda 10'dan küçük sayılar boyanırsa hangi şekil oluşur?

7	12
16	5

- a) 


      b) 


      c) 



S4. Çıkarma işlemlerini yapalım.





-	0	2
7		
12		
5		

8	1	4	
=	6	=	4

9	-		=	2
5	-		=	1

S5. Sıra sayısının belirttiği varlığı boya.




1. 
7. 
3. 
9. 

S6. 12 tane oyuncak arabanın 5 tanesi kayboldu. Geriye kaç oyuncak araba kalmış olur?

S7. "20 - 30 - 40 - 50 -....." ritmik saymasına göre sıradaki sayı hangisidir?

- a) doksan      b) altmış      c) seksen



S8. Yukarıdaki sayılardan kaç tanesi 12'den büyüktür?

- a) 2      b) 3      c) 4

S9. Toplama işlemlerini yapalım.

+	7	10
9		
4		
2		

6	3
+ 5	+ 3

7	+		=	10
	+	2	=	8

S10. Aşağıda verilen sayılardan başlayıp birer birer **geriye doğru** yazalım.

18					
3					
10					
7					

S11. Yanda verilen kalemlere 8 tane daha eklersek kaç kalemimiz olur?

