

## BAYRAĞIM

Göklerin ay yıldızı,  
Rengine pek yaraşmış.  
Bu yurdun oğlu, kızı,  
Senin için savaşmış.

Ata' mdan bize kalan,  
Sevimli güzel bayrak,  
Göklerimde dalgalan,  
Nazlı nazlı uçarak.

## SORULAR

S1. Şiire göre, Ata' mızdan bize kalan nedir?

S2. Şair, bayrağın nasıl dalgalanmasını istiyor?

S3. Şiire göre, bayrak için kimler savaşmıştır?

S4. Şiire göre, hangisi bayrağımızın rengine yaraşanlardan biri değildir?

- a) Güneş
- b) Yıldız
- c) Ay

S5. Aşağıdaki cümlelerin hangisinde özel isim bulunmaz?

- a) Kuşum Maviş, kafesine girmiyor.
- b) Okula her gün servisle geliyorum.
- c) İstanbul' da kar yağışı bekleniyor.

S6. Hangi cümlenin hece sayısı daha çoktur?

- a) Sarı balonlar havaya uçtu.
- b) Parktaki salıncaklar bomboş.
- c) Bu pantolon niye ıslak?

S7. Verilen harflerden bir sonra geleni yazıp ve şifreli olarak verilen sözcükleri bul.

Ş	P	Z	E	I	J	I	Ş	E	Z	I	V	D

S8. Karışık olarak verilen sözcüklerle kurallı ve anlamlı bir cümle yazalım.

çalışıyor	kuzenim	Aslı	markette

S9. Verilen iki sözcükten doğru yazılanı bul ve boyala.

fotoraf	↔	fotoğraf
torpak	↔	toprak
kibrit	↔	kirbit

S10. Tabloyu uygun şekilde dolduralım.

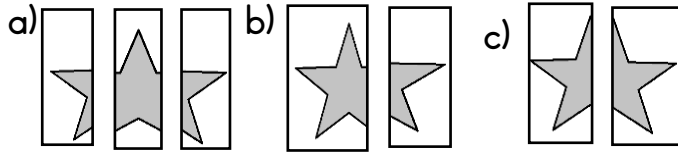
Kelime	Sesli Harfler	Sessiz Harfler
gelişme		

Verilen şiiri bol bol oku ve dikte ile defterine yaz. Soruları defterine yazmana gerek yok.

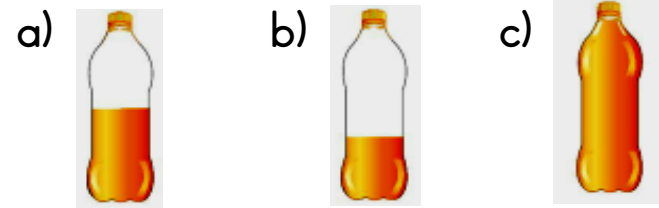
S1. Aşağıdaki ritmik sayılarda boş bırakılan kutulara uygun sayıları yazalım.

İleriye 1'er sayma:

S2. Aşağıdaki bütünlerden hangisi iki eşit parçaya bölünmüştür?



S3. Verilen görseldeki şişlerden hangisinin yarısı doludur?



S4.  + 6 = 11 işleminde boş bırakılan yere hangi sayı yazılmalıdır?

- a) 5      b) 6      c) 3

S5. Çıkarma işlemlerini yapalım.

-	3	7
16		
9		
10		
18		

$$\begin{array}{r} 7 \\ - 4 \\ \hline \end{array} = \begin{array}{r} 9 \\ - 3 \\ \hline \end{array}$$

$$8 - \square = 5$$

S6. Okunuşları verilen sıra sayılarını rakamla yazarak gösterelim.

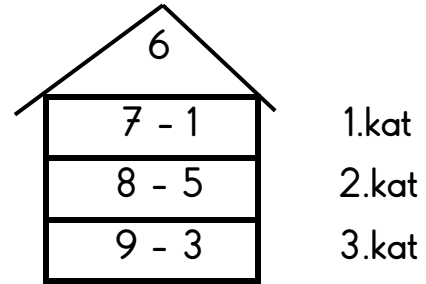
altıncı:       birinci:

S7. Ayşe, kırtasiyeden 3 sarı, 5 yeşil, 1 tane de mavi balon aldı. Ayşe'nin toplam kaç balonu olmuştur?



S8. Yukarıda verilen işlem hangi seçenekte doğru olarak verilmiştir?

- a)  $5 - 2 = 3$       b)  $7 - 4 = 3$       c)  $6 - 3 = 3$



S9. Hangi katta verilen işlem, çatıda yazılı olan rakamı vermez?

- a) 2.kat      b) 1.kat      c) 3.kat

S10. Toplama işlemlerini yapalım.

+	0	7
12		
6		
3		
9		

$$\begin{array}{r} 5 \\ + 4 \\ \hline \end{array} \quad \begin{array}{r} 6 \\ + 2 \\ \hline \end{array}$$

$$9 + \square = 14$$

S11. Aşağıda verilen sayılardan başlayıp birer birer geriye doğru yazalım.

16						
8						

S12. Kantinde 13 kutu meyve suyu vardı. 8 kutusu satıldı. Kantinde geriye kaç kutu meyve suyu kalır?