

Tilki İle Kedi

Tilki ile kedi sohbet ediyorlarmış.Tilki durmadan hilekâr ve kurnaz olduğunu anlatıyormuş. Söylediğine göre düşmanları onu alt edemezmiş. Çünkü onlardan kurtulacak bir sürü oyun ve hile biliyormuş. Kedi biraz da utanarak "Ben fazla oyun bilmem ki. " demiş. Düşmanlarımlarımın elinden kurtulmak için tek bir yol bilirim. O da kaçmaktır.

Tilki: " Kedi kardeş. Ben her tehlike karşısında başımın çaresine bakabilirim. Ama senin durumuna üzülüyorum." demiş. Az sonra bir sürü tazının bağırmalarını duymuşlar. Bir avcı topluluğuna ait bu köpekler bütün hızlarıyla kendilerine doğru koşuyormuş.Kedi hemen yanındaki ağacın dallarına sıçrayıp yaprakların arasına saklanmış. Tilkiyse hangi hileyi yapacağını düşünürken tazılar etrafını çevirip işini bitirmişler.

Bütün olanları yukarıdan seyreden kedi çok hile bilmediğine şükretmiş.

SORULAR

S1. Hilekâr ve kurnaz olan kimmiş?

S2. Kedi tazıların elinden nasıl kurtulmuş?

S3.Tilki ve kedinin peşine düşen hangisidir?

- a) Ayılar
- b) Maymunlar
- c) Tazılar

S4.Verilen soru cümlelerinin hangisi doğru yazılmıştır?

- a) Duyabildinmi?
- b) Beğendin mi?
- c) Anladınmi?

S5. " Halil, kırtasiyeden kitap aldı. " cümlesinde hangi sorunun cevabı yoktur?

- a) Kaç?
- b) Kim?
- c) Ne?

S6. Aşağıda verilen sözcüklerden hece sayısı aynı olanları eşleştirelim.

istiyormuş	•	•	gidiyor
dedi	•	•	lokantada
soyadı	•	•	hangi

S7. Aşağıda verilen sözcüklerden harf (ses) sayısı aynı olanları eşleştirelim.

takım	•	•	üç
az	•	•	cümleler
olabilir	•	•	şehir

S8." Yürümekten ayaklarımlarımın altı şişti. "

*Cümlesi harften (sestem) oluşur.

*Cümlesi heceden oluşur.

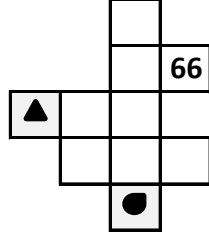
Verilen metni bol bol oku ve dikte ile defterine yaz. Soruları defterine yazmana gerek yok.

S1. Aşağıdaki ritmik sayılarda boş bırakılan kutulara uygun sayıları yazalım.

İleriye 5 ' şer sayma:

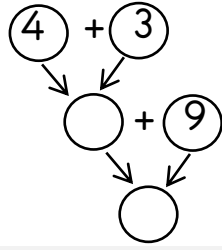
5		15							
---	--	----	--	--	--	--	--	--	--

S2. Yanda yüzlük tablonun bir kısmı verilmiştir. Buna göre, sembolle işaretli kısımlarda hangi sayılar yer alır?



a) 73 - 95 b) 65 - 54 c) 83 - 70

S3. Yanda verilen sayıları yukarıdan aşağıya doğru toplarsak sonuç kaç olur?



a) 15 b) 16 c) 17

S4. Çıkarma işlemlerini yapalım.

-	3	8
17		
10		
14		
8		

$$\begin{array}{r} 15 \\ - 6 \\ \hline \square \end{array} \quad \begin{array}{r} 9 \\ - 5 \\ \hline \square \end{array}$$

$$8 - \square = 7$$

$$6 - \square = 2$$

S5. Aşağıda verilen toplama işlemlerinde toplanan sayıların yerini değiştirerek toplamları yeniden hesaplayalım.

$$\begin{array}{r} 3 \\ + 6 \\ \hline \square \end{array} \quad \begin{array}{r} 6 \\ + 3 \\ \hline \square \end{array}$$

$$\begin{array}{r} 8 \\ + 2 \\ \hline \square \end{array} \quad \begin{array}{r} 2 \\ + 8 \\ \hline \square \end{array}$$

$$\begin{array}{r} 7 \\ + 5 \\ \hline \square \end{array} \quad \begin{array}{r} 5 \\ + 7 \\ \hline \square \end{array}$$

$$\begin{array}{r} 6 \\ + 0 \\ \hline \square \end{array} \quad \begin{array}{r} 0 \\ + 6 \\ \hline \square \end{array}$$

$$3 + 5 = \square$$

$$\begin{array}{r} 3 \\ + 5 \\ \hline \square \end{array}$$

$$9 + 6 = \square$$

$$\begin{array}{r} 9 \\ + 6 \\ \hline \square \end{array}$$

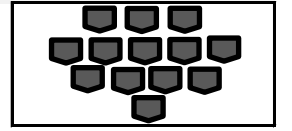
S6. Yanda verilen işlemlere göre "?" yerine kaç yazılır?

$$\begin{array}{r} 8 \\ - 5 \\ \hline \square \end{array} \quad \begin{array}{r} 9 \\ + \square \\ \hline ? \end{array}$$

a) 10 b) 12 c) 14

S7. Aşağıdaki şeklin onluk ve birlik olarak ifadesi aşağıdakilerden hangisidir?

a) 1 onluk 1 birlik
b) 1 onluk 2 birlik
c) 1 onluk 3 birlik



S8. Toplama işlemlerini yapalım.

+	9	4
6		
9		
4		
8		

$$\begin{array}{r} 11 \\ + 6 \\ \hline \square \end{array} \quad \begin{array}{r} 9 \\ + 3 \\ \hline \square \end{array}$$

$$7 + \square = 9$$

$$\square + 3 = 8$$

S9. Aşağıda verilen sayılardan başlayıp birer birer **geriye doğru** yazalım.

13

--	--	--

6

--	--	--	--	--

19

--	--	--	--	--	--

S10. Asiye, 13 sayfalık kitabının 4 sayfasını okumuş. Asiye'nin kitabı tamamlaması için daha kaç sayfa okuması gerekir?