

## Dünya Size Sesleniyor

Çocuklar, ben beş milyar yaşıdayım. Neler gördüm, neler geçirdim... Fakat hiç birisi bana şu son yüzyıl kadar acı vermedi.

Bir varmış diye başlayıp, hiç yokmuş diye biten yaşamımı anlatayım sizlere. Eskiden çok eskiden masmavi gökyüzünün, cıvıl cıvıl öten kuşların, yemyeşil ağaçların olduğu üzerimde tüm canlılar sağlıklı ve mutlu yaşardı. Ama şimdi yemyeşil alanlarımı binalarla, asfalt ve betonlarla kapladılar. Üzerime kurdukları fabrikaların zararlı atıklarını arıtmadan denize döküp masmavi sularımı kirlettiler. Bacalardan çıkan dumanlarla, arabaların egzozlarından çıkan gazlarla gökyüzümü, havamı kirleterek beni yaşanmaz hâle getirdiler. Çöplerini kutuların yerine çevreye atarak topraklarımı kirlettiler.

İnsanlar bilinçsizce beni kirletmeye devam ederse yakında yok olacağım.

### SORULAR

S1. Dünya' mızın yaşı kaçmış?

S2. Dünya' mızın yeşil alanları neyle kaplandı?

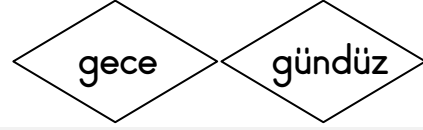
S3. İnsanlar, denizi nasıl kirletmişler?

S4. Dünya' mızın en üzgün olduğu zaman dilimi aşağıdakilerden hangisidir?

- a) şu son günler
- b) şu son yüzyıl
- c) şu son saatler

S5. " Parktakilerin " kelimesinin ilk hecesi kaç sestem ( harften ) oluşur?

- a) 4
- b) 3
- c) 2



S6. Yukarıdaki sözcüklerin arasındaki anlam ilişkisi aşağıda verilen hangi kelimeler arasında vardır?

- a) var -yok
- b) az -çok
- c) geç - tok

S7. Aşağıdaki kelimelerin hece sayılarını boş dairenin içine yazalım.

bilinçsizce  fabrikalardaki

S8. Özel isimlere gelen ekleri kesme işareti ile ayırıp doğru bir şekilde yazalım.

Enesten →

Amasyayı →

S9. Verilen sözcükleri hece ve seslerine ayırarak yazalım.

Kelimeler	Heceleri	Tüm Sesleri (Harf)
masmavi		
başkent		

S10. Verilen tekil sözcükleri çoğul olarak yazalım. ( -lar, -ler)

işaret →

göz →

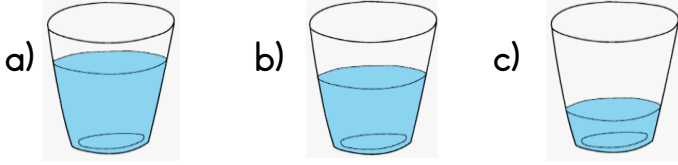
Verilen metni bol bol oku ve dikte ile defterine yaz. Soruları defterine yazmana gerek yok.

S1. Aşağıdaki ritmik sayılarda boş bırakılan kutulara uygun sayıları yazalım.

Geriye 2 'şer sayma:

20				12						
----	--	--	--	----	--	--	--	--	--	--

S2. Aşağıdaki bardaklardan yarısı dolu olan hangisidir?



$$8 - 5$$

①

$$9 - 2$$

②

$$4 - 1$$

③

S3. Yukarıdaki çıkarma işlemlerinden kaç numaralı işlemlerin farkı eşittir?

a) 1 ve 2      b) 2 ve 3      c) 1 ve 3

S4. Çıkarma işlemlerini yapalım.

$$\begin{array}{r} 4 \\ - 0 \\ \hline \end{array} \quad \begin{array}{r} 9 \\ - 3 \\ \hline \end{array} \quad \begin{array}{r} 5 \\ - 2 \\ \hline \end{array} \quad \begin{array}{r} 7 \\ - 6 \\ \hline \end{array}$$

$$8 - \square = 3 \quad 6 - \square = 5$$


S5. Aşağıda verilen sayıları 10 ' a tamamlayan rakamları yazalım.

$$4 + \square = 10 \quad 5 + \square = 10$$

$$\square + 1 = 10 \quad \square + 7 = 10$$

$$8 + \square = 10 \quad 0 + \square = 10$$

S6. Eren'in 16 cevizi vardı. Bir miktarını Sami'ye verince kendisine 11 ceviz kaldı. Buna göre Eren, Sami'ye kaç ceviz vermiş olabilir?



S7. Yukarıdaki görselde verilen misketler onluk ve birlik olarak nasıl ifade edilir?

a) 1 onluk 5 birlik

b) 1 onluk 8 birlik

c) 5 onluk 2 birlik

S8. Toplama işlemlerini yapalım.

$$\begin{array}{r} 3 \\ + 3 \\ \hline \end{array} \quad \begin{array}{r} 8 \\ + 6 \\ \hline \end{array} \quad \begin{array}{r} 9 \\ + 2 \\ \hline \end{array} \quad \begin{array}{r} 14 \\ + 4 \\ \hline \end{array}$$

$$5 + \square = 10 \quad 3 + \square = 3$$

S9. Aşağıda verilen sayılardan başlayıp birer birer **geriye doğru** yazalım.

17				
----	--	--	--	--

4			
---	--	--	--

12						
----	--	--	--	--	--	--

6			
---	--	--	--

S10. Ezgi, 11 yaşındadır. Kardeşi Sibel ise Ezgi'den 8 yaş küçüktür. Buna göre, Sibel kaç yaşındadır?