


S1. Aşağıdaki kaynaklardan hangisi bize aile tarihimiz hakkında bilgi vermez?

Fotoğraflar



a)

Masal Kitapları



b)

Diplomalar



c)

Mektuplar



d)

- S3. I. Görüşme yapılacak kişinin belirlenmesi.
II. Görüşme yerinin ve zamanının belirlenmesi.
III. Görüşme yapılması.
IV. Görüşmede sorulacak soruların hazırlanması.
V. Görüşme kayıtlarının düzenlenerek sunum haline getirilmesi.

Sözlü tarih çalışması yaparken yukarıdaki adımlar

hangi sıra ile takip edilmelidir?

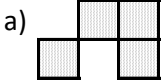
- a) III - II - I - IV - V
b) II - IV - III - I - V
c) IV - V - II - III - I
d) I - II - IV - III - V

S4. Aşağıdaki verilenlerden hangisi milli kültürümüze ait değildir?

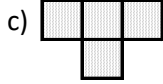
- a) Noel Baba
b) Keloğlan
c) Nasreddin Hoca
d) Deli Dumrul

Penguen Dansı	Kaşık Oyunu	Sirtaki
Horon	Zeybek	Halay

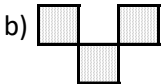
S5. Tablodan kültürümüze ait olmayan halk oyunları çıkarıldığında oluşacak şekil aşağıdakilerden hangisidir?



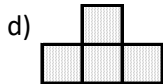
a)



c)



b)



d)

S6. "Gölge Oyunu" denilince aklımıza öncelikle aşağıdakilerden hangisi gelmelidir?

- a) Karagöz ve Hacivat
b) Dede Korkut
c) Pinokyo
d) Keloğlan

S7. Hangisi resmi kimlik belgesi değildir?

- a) Kütüphane kimlik kartı
b) Evlilik cüzdanı
c) Pasaport
d) Sürücü belgesi

S1.

Bilgi	D	Y
Ülkemiz Güney Yarım Küre'dedir.		
Her iki yarım kürede kutup noktaları bulunur.		
Dünya elips şeklinde bir yörüngede dolanır.		

Verilen doğru yanlış etkinliğine göre aşağıdaki seçeneklerden hangisi doğru olur?

- a) b) c) d)

S2.



Hareket ederek gün içerisinde farklı yerlerde bulunurum.



Güneş hareket etmez. Benim dönme hareketim nedeniyle farklı yerlerdeymiş gibi gözükür.

Kendileri ile ilgili konuşan Güneş ve Dünya'dan hangisinin verdiği bilgi doğrudur?

- a) Her ikisi de doğrudur.
b) Her ikisi de yanlıştır.
c) Güneş'in verdiği bilgi doğrudur.
d) Dünya'nın verdiği bilgi doğrudur.

S3. Dünya'nın Güneş etrafındaki dolanma hareketi sırasında, Dünya ekseninin eğikliği nedeniyle gece gündüz süreleri değişir. Yılda iki defa gece gündüz süreleri birbirine eşit olur. Bu duruma ekinoks denir. Buna göre aşağıdaki tarihlerden hangisinde gece ile gündüz süreleri birbirine eşit olur?

- a) 21 Mart - 21 Haziran
b) 21 Mart - 23 Eylül
c) 23 Eylül - 21 Aralık
d) 21 Haziran - 21 Aralık

S4.

Elma	Tavuk eti	Pasta
1	2	3
Peynir	Tereyağı	Pirinç
4	5	6

Yukarıdaki tabloda numaralandırılmış besinlerle ilgili olarak;

- I. 1 ve 5 karbonhidrat bakımından zengindir.
II. 2 ve 4 protein bakımından zengindir.
III. Hepsinde su ve mineral bulunur.

İfadelerinden hangisi veya hangileri doğrudur?

- a) Yalnız I
b) II ve III
c) I ve II
d) I - II ve III