

S1. Aşağıda numaralandırılan sözcüklerin eş anlamlarını karşıdaki sözcüklerle örnekteki gibi eşleştirelim.

becerikli	1
baytar	2
ahenk	3
zanlı	4
milli	5
fiil	6
kıyafet	7
vilayet	8

	veteriner
	eylem
	ulusal
	il
1	hamarat
	elbise
	uyum
	şüpheli

S2. Aşağıda sözcükleri hecelerine ayırarak yazalım.

Sözcük	Heceleri
suçüstü	
eloğlu	
başörtü	
gözaltı	

S3. Verilen harflerden alfabetik olarak bir sonra geleni altına yazarak şifreli metni çözelim.

Z d r k d p a ı y ı a ı m a ı p o g u m,

V d L ı s k d p, r d a y d k d p ğ d p f u m,

A d m ı v z m h m z f o ş u p u m,

Ş n ö p z j ı j ı m b ı z m m d L ı y.

S4. Verilen cümlelerde ünlü düşmesi görülen sözcükleri kutu içine alıp işaretleyelim.

(Sözcüklerde yanyana gelen ünsüzlere dikkat et!)

a) Meğer koynumda yılan beslemişim yıllarca.

b) Uyandığında küçük oğlu yanında yoktu.

c) Vesikalık resmi tekrar çektiğim gerekiyormuş.

ç) Vaktimi boşa geçirmeyi hiç sevmiyorum.

S5. " Borcun yoksa kefil ol, işin yoksa şahit ol. "

atasözüne göre, aşağıda verilen soruları cevaplayalım.

a) Hangi sözcükte ünsüz yumuşaması vardır?

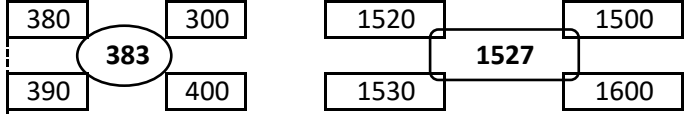
b) Hangi sözcük alfabetik olarak ilk sırada yer alır?

c) Sözcüklerden hangisi Büyük Ünlü Uyumuna uymaz?

S1. Aşağıda verilmeyen toplananları bulalım.

$$\begin{array}{r} 4 \ 4 \ 7 \\ + \quad \quad \quad \\ \hline 7 \ 2 \ 5 \end{array} \quad \begin{array}{r} \square \ \square \ \square \ \square \\ + \ 1 \ 9 \ 8 \ 4 \\ \hline 4 \ 0 \ 2 \ 3 \end{array} \quad \begin{array}{r} \quad \quad \quad 2 \ 8 \\ + \quad \quad \quad \\ \hline \quad \quad \quad 6 \ 0 \end{array}$$

S2. Ortaki sayının en yakın olduğu onluğu ve yüzlüğü boyayalım.



S3. Bir çıkarma işleminde fark 376, eksilen ise 2108 olduğuna göre, çıkan sayı kaçtır?

S4. Sayı ve basamak değerlerini uygun yere yazalım.

Sayı	Basamak
5	Değeri
0	Değeri
3	Değeri
0	Değeri
2	Değeri
4	Değeri

S5. " 25.359 " sayısında tekrar eden rakamların basamak değeri toplamı kaçtır?

S6. Rakamları farklı beş basamaklı en küçük sayının çözümlenmiş halini yazalım.

8	9	11	12	A	15	17	B
7	10	10	13	13	16	16	19

Yukarıdaki kareler içerisinde sayılar belli bir kurala göre dizilmiştir. Buna göre; A + B = ?

S8. " 4530 " dan başlayarak 100' er ileriye doğru ritmik saymada 7. sırada söylenen sayı kaçtır?

S1. Ses tonu insanların duygu ve düşüncelerini yansıtmada önemli bir faktördür. Buna göre, bir kişinin ses tonunun sert ve yüksek olması onun hakkında aşağıdakilerden hangisini **göstermez**?

- a) Sinirlidir c) öfkeli
b) Sevecendir d) Kızgındır

S2. ".....her şeyi anlayışla karşılayarak olabildiği kadar tolerans, müsamaha göstermektir." açıklamasına göre, noktalı yere aşağıdakilerden hangisi yazılmalıdır?

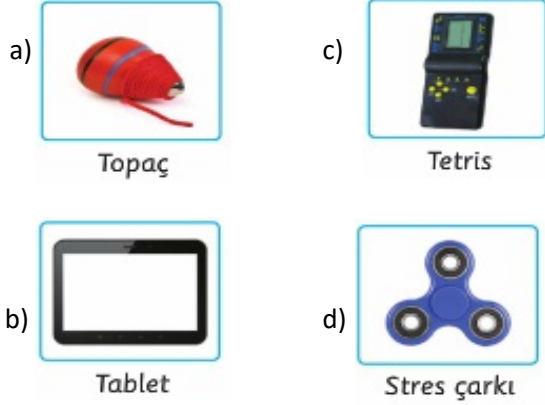
- a) Duygu c) Kronoloji
b) Davranış d) Hoşgörü

S3.	1	satranç	3	birdirbir
	2	mangala	4	saklambaç

Türk zekâ ve strateji oyunu olarak nitelendirilen oyun, yukarıdakilerden hangisidir?

- a) 1 b) 2 c) 3 d) 4

S4. Dedesi, Cenk'e kendisi çocukken oynadığı bir oyuncağı hediye etmiştir. Buna göre, dedesi Cenk'e hangi oyuncağı hediye etmiş olabilir?



S5.	I	Kırmızı Başlıklı Kız	III	Pamuk Prenses
	II	Dede Korkut Hikayeleri	IV	Keloğlan Masalları

Yukarıdakilerden hangileri milli kültürümüze ait öğeler arasında **yer almaz**?

- a) I ve II c) I ve III
b) II ve IV d) III ve IV

S6. Farklılıklarla ilgili verilen bilgilerden hangisi **yanlıştır**?

- a) İnsanlarla barışık olmaktır.
b) Yanlışıları görmezden gelmektir.
c) Farklılıkları anlamaktır.
d) Ön yargısız tutum sergilemektir.

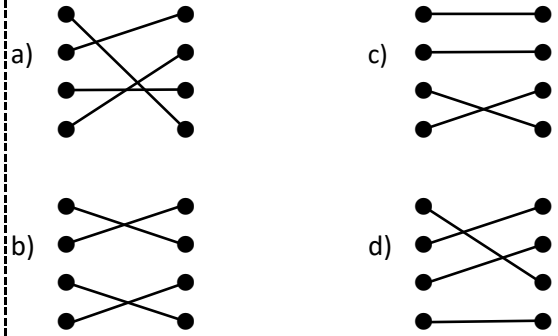
S1.	Tereyağı	Portakal
	Kuruyemiş	Zeytinyağı

Yukarıda verilen gıdalardan kaç tanesi bitkisel kaynaklardan elde edilir?

- a) 1 b) 2 c) 3 d) 4

S2.	Makarna	●	●	Yağ
	Zeytinyağı	●	●	Protein
	Et	●	●	Karbonhidrat
	Mandalina	●	●	Vitamin

Yukarıda verilen yiyecek ve besin grubu eşleştirilmesi hangi seçenekte doğru olarak verilmiştir?



S3. Verilenlerden hangisi düzenleyici besinler grubunda **yer almaz**?

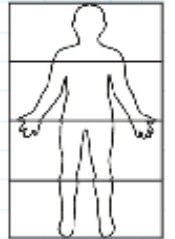
- a) vitaminler c) mineraller
b) yağlar d) su

S4. Bütün yiyecek ve içeceklerde az veya çok miktarda bulunan besin veya besinler hangi seçenekte verilmiştir?

- a) protein c) vitamin
b) yağ d) su ve mineral

S5. İnsan vücudunun 3/4'ü sudan oluşmaktadır. Buna göre, 32 kg olan bir çocuğun vücudunda kaç kg su bulunmaktadır? (1 kg su = 1 L su)

- a) 8 c) 20
b) 10 d) 24



S6.	1	çakıl taşı	granit	2
	3	elmas	fosil	4

Yukarıdakilerden hangisi kayaç çeşidi **değildir**?

- a) 4 b) 3 c) 2 d) 1