

S1. Aşağıda numaralandırılan sözcüklerin eş anlamlarını karşıdaki sözcüklerle örnekteki gibi eşleştirelim.

kâse	1
matem	2
defans	3
duygu	4
mont	5
bilinç	6
yalın	7
kas	8

	yas
	kaban
1	tas
	sade
	his
	adele
	akıl
	savunma

S2. Verilen tabloda istenen bilgileri yazalım.

Sözcükler	İnce Ünlüler	Kalın Ünlüler	Ünsüzler
padişahlar			
selamlaşma			

S3. Verilen sözcükleri alfabetik sıraya göre yazalım.  
" cereyan - cop - cıvık - cönk - cazibe - cümbüş "

- 1..... 4.....  
2..... 5.....  
3..... 6.....

S4. " Dağ dağa kavuşmaz, insan insana kavuşur. "

atasözüne göre;

a) Cümle kaç heceden oluşur?

b) Cümlede geçen ince ünlüleri yazalım.

c) Cümle kaç sözcükten oluşur?

ç) Cümlede Büyük Ünlü Uyumu'na uymayan sözcükler hangisidir?

S5. Verilen sözcüklerden Büyük Ünlü Uyumu kuralına uyanların önündeki kutucuğu (X) ile işaretleyelim.

	kumral
	icraat
	düzlem
	kumandan

	pasaport
	fiyaka
	hafriyat
	tabaka

S6. Cümlelerde Ünsüz Benzeşmesi Kuralına uygun olan sözcükleri kutu içine alarak gösterelim. (f,s,t,k,ç,ş,h,p)

- a) Köpekten korktuğu için dışarı çıkamıyor.  
b) Şehrin en iyi kebabçısı bizim sokakta.  
c) Kağıttan kayıklar yapıp dereye yüzdürürdük.

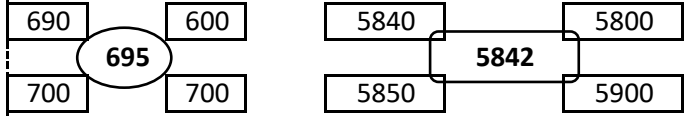
S1. Verilen sayının okunuşunu yazalım.

a) 25.108 :

S2. Okunuşu verilen sayıyı rakamla yazalım.

Üç yüz iki bin doksan dört :

S3. Ortaki sayının en yakın olduğu onluğu ve yüzlüğü boyayalım.



S4.  $M + 1957 = 5103$  işleminde göre " M " yerine yazılacak sayı kaçtır?

S5. Sayı ve basamak değerlerini uygun yere yazalım.

Sayı	Basamak Değeri
7	
3	
2	
5	
1	
9	

S6. Toplama işleminde verilmeyen sayıları yazalım.

$$\begin{array}{r} \square \\ + \square 9 \\ \hline 53 \end{array} \quad \begin{array}{r} 5 \square 7 \\ + \square 2 \square \\ \hline 815 \end{array} \quad \begin{array}{r} \square 8 \square 4 \\ + 3 \square 9 \square \\ \hline 9021 \end{array}$$

S7. Aşağıda verilen sayıları büyükten küçüğe doğru (>, <) işaretlerini kullanarak sıralayalım.

327.534 - 268.954 - 110.216 - 404.112 - 94.503

S8. Aşağıda okunuşu verilen sayının bölüklerini uygun kutucuklara yazalım.

" altmış beş bin iki yüz otuz bir "

Binler Bölüğü	Birler Bölüğü
---------------	---------------

S9. Çıkarma işlemlerinde verilmeyen sayıları yazalım.

$$\begin{array}{r} 5034 \\ - \square \\ \hline 2289 \end{array} \quad \begin{array}{r} \square \\ - 3845 \\ \hline 4766 \end{array}$$

S1. Kaç yaşına geldiğimizde kimliğimize fotoğraf konulması mecburidir?

- a) 7 b) 15 c) 18 d) 20

S2. ● Bale yapmak ● Müzik dinlemek  
● Gitar çalmak ● Kitap okumak

Yukarıda verilenlerden kaç tanesi yeteneklerimizle ilgilidir?

- a) 1 b) 2 c) 3 d) 4

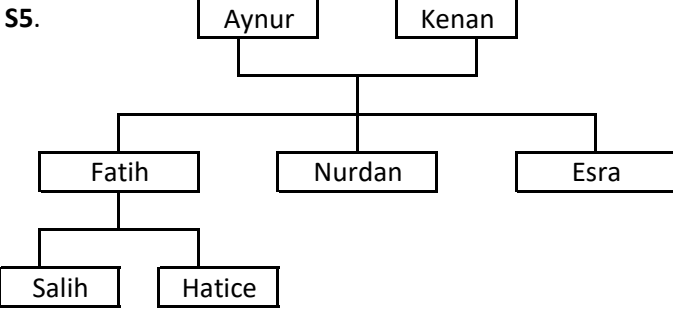
S3. " Kişilerle görüşülerek o kişilerin yaşamlarına ait olayların kaydedilmesi ve arşivlenmesine.....denir."

Yukarıdaki cümlede boş bırakılan yere aşağıdakilerden hangisi yazılmalıdır?

- a) Sözlü tarih c) Akrabalık  
b) Kimlik Kartı d) Empati

S4. Milli kültür öğelerimizden hangisi geleneksel el sanatlarımızla ilgilidir?

- a) Zeybek c) Asker uğurlama  
b) Atasözleri d) Halıcılık



Yukarıdaki soyağacına göre; aşağıdaki eşleştirmelerden hangisi doğrudur?

- a) Salih'in teyzesi Esra Hanım'dır.  
b) Fatih Bey'in dedesi Kenan Bey'dir.  
c) Hatice'nin halası Nurdan Hanım'dır.  
d) Aynur Hanım ile Fatih Bey kardeşidir.

S6. Verilenlerden hangisi milli içeceklerimizden biri **değildir**?

- a) Kola b) Boza c) Ayran d) Şalgam suyu

S7. Aşağıdaki seçeneklerden hangisi kronolojik sıraya göre **en sonda** yer almalıdır?

- a) 1 yaşında yürümeye başladım.  
b) 6 yaşında ağabey oldum.  
c) 3.sınıfa giderken Samsun'a taşındık.  
d) 4 yaşındayken anasınıfına başladım.

S1. "Sanayinin ham maddesi olarak kullanılır. Otomotiv sanayisinden inşaata kadar birçok alanda kullanılır. Sivas Divriği'nde zengin maden yatakları bulunur.

Yukarıda tanıtımı yapılan maden hangisidir?

- a) Altın c) Demir  
b) Bor d) Bakır



S2. Yandaki görselle ilgili aşağıdaki bilgilerden hangisi **yanlıştır**?

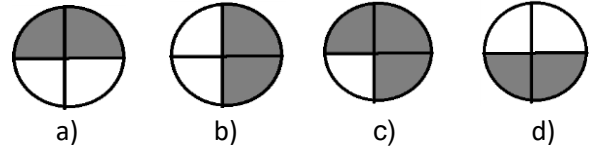
- a) Yalnızca hayvanlara ait örnekleri vardır.  
b) Buldukları yerin iklimi ile ilgili bilgi verebilir.  
c) Kayaçların arasında kalan canlı kalıntılarındanır.  
d) Buzullarda ya da ağaç reçinelerinde de benzer kalıntılara rastlanabilir.

S3. Verilen bilgilerden hangisi **yanlıştır**?

- a) Dünya'nın iki farklı hareketi vardır?  
b) Dünya'nın Güneş etrafındaki dolanımı her bölgede aynı anda gündüz yaşanmasına sebep olur.  
c) Gecenin oluşumu Dünya'nın kendi etrafındaki dönüşünün sonucudur.  
d) Güneş'in gün içerisinde farklı konumlarda olması Dünya'nın kendi etrafında dönmesinin sonucudur.



S4. Şekildeki Dünya modelinde gece olan bölgeler siyah ile boyanırsa model aşağıdakilerden hangisine benzer?



S5. Yağlar için;

- ☐ Karbonhidratlardan daha çok enerji sağlar.  
☐ Her besinde bolca bulunur.  
☐ İkincil enerji kaynağı olan besin grubudur.

Yukarıdaki doğru-yanlış etkinliği hangi seçenekte doğru olarak verilmiştir?

- a) 

D
D
D

 b) 

D
D
Y

 c) 

D
Y
D

 d) 

D
Y
Y

S6. Aşağıdakilerden hangisi besinleri uzun süre saklama yöntemlerinden biri **değildir**?

- a) Yağlama c) Dondurma  
b) Kurutma d) Konserve yapma

S7. 1 yıl aşağıdaki zamanlardan hangisine eşittir?

- a) 52 gün b) 30 ay c) 7 hafta d) 365 gün 6 saat