

S1.Sözcüklerin eş anlamlarını yazalım.

a) rüştiye	➔	ilkokul	ortaokul	lise
b) teklif	➔	fatura	anıt	öneri
c) kulp	➔	sap	tencere	kupa
ç) buhar	➔	dere	istim	kuru
d) cumhur	➔	destan	gece	halk

S2.Verilen cümlelerdeki altı çizili sözcüğün eş seslisini farklı bir anlamıyla yeni bir cümlede kullanalım.

a) Acil bir hasta için çok acil kan araniyor.

b) Yeni aldığım pantolon biraz bol geldi.

S3. Verilen cümlelerde uygun yerlere " nokta" koyalım.

a) Toplantımızı 27 09 2018 tarihinde yapacağız

b) Bu yıl takımımız ligde 3 sırayı alsa iyidir

c) Ders araç gereçlerini dikkatli kullanmalıyız

ç) Her sabah 6 30 ' da uyanıyorum

S4. Verilen harflerden alfabetik olarak bir sonra geleni yazarak şifreli metni çözelim.

R d m i m c z ş h m z k ş h m ç z ,

F i p L d y j o ş u ç t v f t k z p ,

A i k f i f i p d m v d p k d p ç d ,

J z k L z y z p ş h j j z v f h k z p .

S5. Aşağıda sözcükleri karışık olarak verilen atasözlerini düzenleyerek yeniden yazalım.

a) derdini- bulamaz - derman - söylemeyen

b) kapar - koyunu - kurt - çobansız

c) uzaktan - hoş - davulun - gelir - sesi

ç) çıkılmaz - ateş - yerden - duman - olmayan

S6. Yanlış yazılan sözcüklerin doğrusunu yazalım.

a) çenber : c) canbaz :

b) topac : d) şanpiyon :

c) ombası : e) gram :

S1.Verilen sayının okunuşunu yazalım.

a) **70. 203** :

S2.Okunuşu verilen sayıyı rakamla yazalım.

Üç bin beş yüz yirmi :

S3. Verilen sayıyı en yakın oldukları onluk ve yüzlüklere yuvarlayalım.

a) 853 ➔	en yakın onluk	en yakın yüzlük
----------	----------------	-----------------

b) 5038 ➔	en yakın onluk	en yakın yüzlük
-----------	----------------	-----------------

S4. Aşağıda verilen sayıyı çözümlyerek yazalım.

602.871

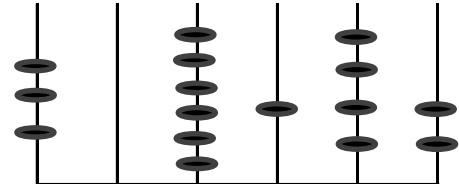
S5.Aşağıda verilen sayıları büyükten küçüğe doğru (> , <) işaretlerini kullanarak sıralayalım.

6.396 - 11.023 - 2.549 - 82.100 - 37.946

S6.Aşağıda bölükleri verilen sayıları yazalım.

Birler bölüğü : 4	Sayı
Binler Bölüğü : 35	

S7.



Y.bin O.bin Bin. Y. O. B.
Bas. Bas. Bas. Bas. Bas. Bas.

Yukarıdaki abaküse göre;

Sayıyı rakamla yaz	Sayının okunuşunu yaz

S8. (5x1000) + (3x100) + (8x10) + (2x1) şeklinde çözümlenmiş sayıyı rakamla yazalım.




S9. Aşağıda verilen sayıları karşılaştıralım. (> , < , =)

a) 4235.....7254

b) 281.830.....300.173



S1. Verilen ifadelerden hangisi **yanlıştır**?

- a) Nüfus cüzdanı sadece yetişkin kişilere verilir.
 b) İnsanların kimlik numaraları birbirinden farklıdır.
 c) Türkiye Cumhuriyeti kimlik kartı resmi bir belgedir.
 d) Nüfus cüzdanımız bir devletin vatandaşı olduğumuzu kanıtlar.

- S2.  Nüfus cüzdanı kim olduğumuzu ortaya koyan belgedir.
 Nüfus cüzdanında ev adresi de yer almaktadır.
 Nüfus cüzdanımız bu ülkenin bir vatandaşı olduğumuzun kanıtıdır.

Yukarıda verilen ifadelerden hangisi ya da hangileri

yanlıştır?

- a) Yalnız  c) Yalnız 
 b)  ve  d)  ve 

S3.



Türkiye Cumhuriyeti Kimlik Kartı'nın ön ve arka yüzünde hangi bilgi **yer almaz**?

- a) Okul Numaramız c) Doğum Tarihimiz
 b) Adımız d) Cinsiyetimiz

S4. İki kişinin kimlik kartları karşılaştırıldığında verilen bilgilerden hangisi kesinlikle **aynı olamaz**?

- a) T.C. Kimlik numarası c) Soyadı
 b) Baba adı d) Doğum Yeri

- S5.

1	Birinci sınıfa başladım.	a	2013
2	Yürümeye başladım	b	2014
3	Adana'da doğmuşum.	c	2009
4	Anasınıfına başladım.	d	2010
5	İki yıl sonra kardeşim doğdu.	e	2008

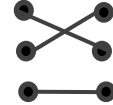
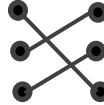
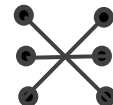
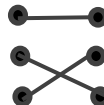
Yukarıda verilen kronolojik tabloda doğru sıralamanın yapıldığı seçenek aşağıdakilerden hangisidir?

- a) 1d - 2c - 3b - 4a - 5e c) 1b - 2c - 3e - 4a - 5d
 b) 1a - 2e - 3c - 4d - 5b d) 1e - 2d - 3a - 4b - 5c

S1.

- | | |
|----------|--|
| Kurşun ● | ● Aküde, tv tüplerinde ve mermi yapımında kullanılır. |
| Bor ● | ● ilaç ve boya sanayinde, dişçilik ve termometrede kullanılır. |
| Civa ● | ● cam, porselen, sabun, uzay araçları ve gübrede kullanılır. |

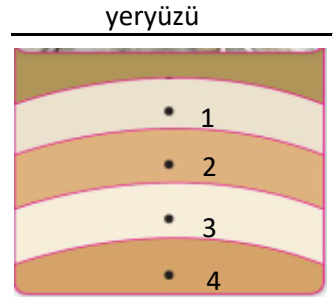
Yukarıda madenler ve kullanım alanları eşleştirilirse, verilen seçeneklerin hangisi doğru olur?

- a)  c) 
 b)  d) 

S2. Yanda verilen şekle

göre, kaç numaralı alanda bulunan fosil diğerlerinden daha eski döneme aittir?

- a) 1 c) 3
 b) 2 d) 4



S3. Bulunan bir fosil üzerinden aşağıdaki bilgilerin hangisine **ulaşamaz**?

- a) Canlının kaç yıl önce yaşadığı
 b) Canlının içinde bulunduğu kayacın yaşı
 c) Bulunduğu bölgenin iklimi
 d) Bulunduğu bölgedeki depremlerin tarihi

- S4. Kayalar ufalanarak kayaçları oluşturur.
 Geçmişte yaşanan canlılara ait kalıntılara maden denir.
 Kayaçların yapısında mineral adı verilen maddeler bulunur.

Yukarıda verilen bilgiler doğru yanlış etkinliği ile işaretlendiğinde hangi seçenek doğru olur?

- a) Y - Y - D c) D - D - Y
 b) D - Y - D d) Y - D - Y

S5. Verilenlerden hangisi bir yönüyle diğerlerinden **farklıdır**?

- a) Altın c) Platin
 b) Toprak d) Alüminyum