


S1. Yandaki sözcüklerin eş anlamlarını bulmacanın uygun kutucukları içine yazalım.



1. büyük
2. deprem
3. hadise
4. cevap

S2. Verilen sözcükleri alfabetik sıraya göre yazalım.
" banka - başak - bakraç - bayrak - başış - baraj "

- 1.....
- 2.....
- 3.....
- 4.....
- 5.....
- 6.....

S3. Aşağıda verilen cümlelerde ünsüz yumuşamasına uğramış olan sözcükleri kutu içine alarak gösterelim.
(p-ç-t-k-----> b-c-d-g-ğ)

- a) Çalışma alışkanlığı küçük yaşlarda kazanılır.
- b) Birlikte pikniğe gitmek oldukça eğlenceliydi.
- c) Yemeği bitirmeden bahçeye çıkma izni yok.
- ç) Bisikletimin ön tekerleği oldukça eski görünüyor.
- d) Yeni aracım ile ilk kez trafiğe çıkıyorum.

S4. Aşağıdaki cümlelerde verilen altı çizili sözcük mecaz anlamlıysa boş kutucuğa "M", gerçek anlamlıysa "G" yazarak etkinliği tamamlayalım.

- Tatlı dil yılanı deliğinden çıkarır.
- Soğuk su ellerimin çatlamasına sebep oldu.
- Doğum günümde adeta hediye yağmuru vardı.
- Günlerdir yağlı bir müşteri arıyorum.
- Bu balık ağı oldukça kaliteliymiş.

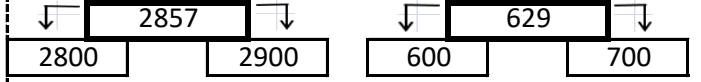
S5. " Törende yapacağım konuşmayı dün hazırladım." cümlesine göre, aşağıdaki soruları cevaplayalım.

- a) Kim? :
- b) Neyi? :
- c) Ne zaman? :

S1. Okunuşu verilen sayıyı rakamla yazalım.

bin yirmi altı :

S2. Üstteki sayının en yakın olduğu yüzlüğü boy.



S3. Çıkarma işlemlerinde verilmeyen sayıları yazalım.

$$\begin{array}{r} 5013 \\ - \quad \quad \quad \\ \hline 2759 \end{array}$$

$$\begin{array}{r} \quad \quad \quad \\ - 1486 \\ \hline 3374 \end{array}$$

S4. (300.000) + (90.000) + (1.000) + (500) + (7) şeklinde çözümlenmiş sayıyı rakamla yazalım.

y b o b n y o b

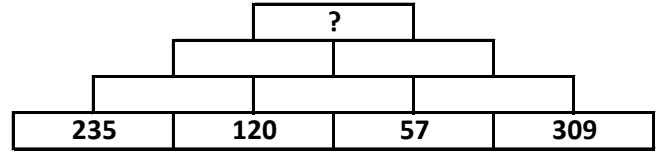
S5. Toplama işleminde verilmeyen sayıları yazalım.

$$\begin{array}{r} 1 \quad \square \\ + \quad \square \quad 6 \\ \hline 7 \quad 1 \end{array}$$

$$\begin{array}{r} 3 \quad \square \quad 0 \\ + \quad \square \quad 7 \quad \square \\ \hline 6 \quad 2 \quad 8 \end{array}$$

$$\begin{array}{r} \square \quad 9 \quad \square \quad 5 \\ + \quad 4 \quad \square \quad 3 \quad \square \\ \hline 9 \quad 6 \quad 0 \quad 2 \end{array}$$

S6.



Yukarıdaki piramitte sayılar yukarıya doğru toplanarak ilerleniyor. Buna göre, "?" yerine hangi sayı yazılmalıdır?

S7. Aşağıda verilen sayıları büyükten küçüğe doğru (>, <) işaretlerini kullanarak sıralayalım.

102.410 - 385.953 - 96.341 - 22.400 - 81.035

S8. $\diamond = 1652 + 2584$

$\heartsuit = \diamond + 1086$

Yandaki toplama işlemine göre, \heartsuit ile gösterilen sayı kaçtır?

S9. Bir çıkarma işleminde fark 220'dir. Eksilen sayı 83 arttırıldığında oluşan yeni fark kaç olur?

SOSYAL BİLGİLER	FEN BİLİMLERİ	20
-----------------	---------------	----

S1. Aşağıdakilerden hangisi bireyin duygusal özelliklerinden biridir?

- a) Cinsiyetimiz
b) Keman çalmamız
c) Yaşımız
d) Sevinçlerimiz

S2. Aşağıdakilerden hangisi kronolojik sıralamada ilk olarak belirtilir?

- a) İlk adımımızı attığımız gün
b) Doğduğumuz gün
c) 4. sınıfa başladığımız gün
d) Okula ilk başladığımız gün

S3. İnsanları tanıtan belgelere ne ad verilir?

- a) Dilekçe
b) Kart
c) Kronoloji
d) Kimlik

S4. " Yazmak güzel bir şey. Üstelik kendini yazmak, kendini kağıtlara anlatabilmek, harika bir duygu. "

Yukarıdaki ifadeye göre, duygu ve düşüncelerin anlatılmasında aşağıdaki yöntemlerden hangisi kullanılmış olabilir?

- a) Günlük tutmak
b) Mimikleri kullanmak
c) Ses tonunu doğru ayarlamak
d) Yüz ifadelerini kullanmak

S5. Mondros Ateşkes Antlaşması'na göre Osmanlı ordusunun büyük bölümü terhis edilecekti. Bu durum, aşağıdaki sonuçların hangisini ortaya çıkarmış olabilir?

- a) Padişahın yetkilerinin halka verilmesini.
b) Eşit şartlarda bir barış antlaşması yapılmasını.
c) Türk topraklarının düşman devletlerinin işgaline açık hale getirmesini.
d) Bağımsız bir ülke olduğumuzu tüm dünya devletlerinin anlamasını.

S6. I. Geleneksel oyunlar kültürümüzün bir parçasıdır.

II. Geçmişte oynanan oyunların tamamı günümüze değişmeden ulaşabilmiştir.

III. Oyun oynarken çoğu kez vaktin nasıl geçtiğini anlayamayız.

Yukarıda verilen bilgilerden hangileri doğrudur?

- a) I ve II
b) II ve III
c) I ve III
d) I - II ve III

S7. Aşağıdakilerden hangisi anne tarafımızdan akrabamız olur?

- a) dayı
b) amca
c) hala
d) babaanne

S1.

SONUÇ

1

Gece - gündüz oluşumu

2

Yıl oluşumu

3

Gün oluşumu

HAREKET

T

Dünya'nın dönme hareketi

R

Dünya'nın dolanma hareketi

Tablodaki sonuçlarla, bu sonuçlara sebep olan hareket türlerinin doğru eşleştirmesi hangi seçenekte doğru olarak verilmiştir?

- a) 1 - T 2 - R 3 - R
b) 1 - R 2 - T 3 - T
c) 1 - T 2 - R 3 - T
d) 1 - R 2 - T 3 - R

S2. Vücudumuzun temel yapı malzemesi olup, büyü-yüp gelişmemizi sağlayan, yapıcı onarıcı besin içeriği ve örnek besin hangi seçenekte verilmiştir?

- a) protein - beyaz et
b) karbonhidrat - portakal
c) vitamin - makarna
d) yağ - ekme

S3. Sigaranın içerisindeki zararlı maddelerden hangisi bağımlılığa sebep olmaktadır?

- a) Aseton
b) Karbonmonoksit
c) Metanol
d) Nikotin

S4. Vücudumuza fazla alınan ve kullanılmayan karbonhidratlar, vücutta hangi yapıya dönüştürülerek depolanır?

- a) Yağa dönüşür
b) Vitamine dönüşür
c) Suya dönüşür
d) Minerale dönüşür

S5. Alkol, aşağıda verilen organlardan hangisini daha az etkiler?

- a) Böbrekler
b) Karaciğer
c) Akciğerler
d) Mide

S6. Aşağıdaki alanların hangisinde fosil bulunması ihtimali söz konusu olamaz?

- a) Evimizin duvarı
b) Buzulların içi
c) Kayaçların içi
d) Ağaç reçinesi

S7. Aşağıdaki eşleştirmelerden hangisi yanlıştır?

- a) Bakır----->Artvin-Murgul
b) Altın----->İzmir-Bergama
c) Bor----->İstanbul-Beykoz
d) Demir----->Sivas-Divriği