

**S1.**Sözcüklerin zıt ( **karşıt** ) anlamlarını yazalım.

a) dert	➔	taraf	sevinç	erken
b) pahalı	➔	ürün	fark	ucuz
c) karışık	➔	sade	nemli	sert
ç) maddi	➔	şekil	manevi	haydut
d) canlı	➔	haşere	bölüm	ölü

**S2.**Verilen cümlelerde " **Sessiz harflerin yumuşaması** " kuralına uğrayan sözcükleri kutu içine alıp işaretle.

( **p-ç-t-k-----> b-c-d-g-ğ** )

- a) Aşçılık mesleği oldukça yorucu olabiliyor.
- b) Futbol kulübü oyuncu seçmelerine başlamış.
- c) Dün çok beğenerek aldığı oyuncuğu bozuk çıktı.

**S3.** Verilen cümlelerde **ünlü düşmesi** görülen sözcükleri kutu içine alıp işaretleyelim.

(**Sözcüklerde yanyana gelen ünsüzlere dikkat et!** )

- a) Bu işten de alınımızın akı ile çıktık.
- b) Küp şeklinde sekiz köşe bulunmaktadır.
- c) Burnuma nefis yemek kokuları geliyor.

**S4.** Verilen harflerden **alfabetik olarak bir sonra geleni** yazarak şifreli metni çözelim.

**D ü İ L İ y ç d v z s z p k z p ,**

**D k İ L İ y d a z j z p k z p ,**

**Ş u p k u İ s d v z p z p k z p ,**

**D ü b İ k k d s L İ s ğ z v ü z m k z p .**

**S5.** Aşağıda sözcükleri hecelerine ayırarak yazalım.

Sözcük	Heceleri
İlkokul	
Yalova	
Yayınevi	
Başöğretmen	

**S6.** " Gençliğin kıymeti, ihtiyarlıkta bilinir. " atasözüne göre;

- a) Cümle kaç sestene oluşur? :
- b) Cümle kaç sözcükten oluşur? :
- c) Büyük Ünlü Uyumu'na uymayan sözcükler hangileridir?

**S1.**Verilen sayının okunuşunu yazalım.

a) **509. 100** :

**S2.**Okunuşu verilen sayıyı rakamla yazalım.

**Yüz beş bin iki :**

**S3.** Verilen sayıyı en yakın oldukları onluk ve yüzlüklere yuvarlayalım.

a) **186** ➔

en yakın onluk	en yakın yüzlük

b) **2341** ➔

en yakın onluk	en yakın yüzlük

**S4.** Aşağıda verilen sayıyı çözümleyerek yazalım.

**390. 806**

**S5.**Aşağıda verilen sayıları büyükten küçüğe doğru (> , < ) işaretlerini kullanarak sıralayalım.

**85.624 - 26.182 - 15.900 - 90.000 - 44.167**

**S6.** Birler bölümü 7 , binler bölümü 4 olan sayıyı rakamla yazalım.

**S7.**

--	--	--	--	--	--

**Y.bin O.bin Bin. Y. O. B.**  
**Bas. Bas. Bas. Bas. Bas. Bas.**

Aşağıda verilen sayıyı abaküste gösterelim;





Sayı	Sayının okunuşunu yaz
<b>20.680</b>	

**S8.** ( 8x1 ) + ( 6x100.000 ) + ( 6x100 ) + ( 4x10.000 ) şeklinde çözümlenmiş sayıyı rakamla yazalım.


**S9.** " 34 - 44 - 40 - 50 - 46 - 56 - 52 - ? " örüntüsünde "?" yerine kaç yazılmalıdır?

S1. Aşağıda verilen bilgilerden hangisinin kronolojik bir bilgi olduğu **söylenemez?**

- a) 6 Mart 1984' te İstanbul'da doğdum.  
b) Doğduğumda ailem çok sevinmiş.  
c) 1991 yılında ilkokula başladım.  
d) 2005'te ailemle Samsun'a taşındık.

- S2.  Anne adı  TC kimlik no  
 Doğum yeri  Doğum tarihi

Hasan ve Hüseyin ikiz kardeşler. Bu ikiz kardeşlerin nüfus cüzdanlarında yukarıdaki bilgilerden hangisi birbirinden **farklıdır?**

- a)  b)  c)  d) 

S3.



Yeni kimlik kartımızı, nüfus cüzdanlarımızdan ayıran **en temel özelliği** aşağıdakilerden hangisidir?

- a) Kişinin mesleğini de belirtmesi.  
b) Kişinin adres bilgilerinin de bulunması.  
c) Daha kolay taşınabilmesi.  
d) Yonga ( çip ) özelliği ile taklit edilmesinin zor olması.

S4. Aşağıda verilen özelliklerden hangisi fiziksel bir özellik **değildir?**

- a) Boy uzunluğumuz c) Ten rengimiz  
b) Kilomuz d) İyi kalpli olmamız

S5. " En beğendiğim müzik türü pop, oysa en iyi arkadaşım Hande, halk müziğinden hoşlanıyor. "

Yukarıdaki ifadeye göre, belirtilen bireysel farklılık aşağıdaki alanların hangisiyle alakalıdır?

- a) cinsiyet c) davranış  
b) yetenek d) ilgi

S6. Aşağıda verilen ifadelerden hangisi "hoşgörülü" bir insan için **söylenemez?**

- a) Kendisi gibi düşünmeyenlere karşı anlayışlı olma.  
b) Hataları affedebilme.  
c) Farklı giyim tarzlarına karşı olma.  
d) Farklı görüşlere karşı saygılı olma.

S1.

Çinko



İnşaatlarda, otomobil sanayinde, raylarda kullanılır.

Krom



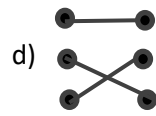
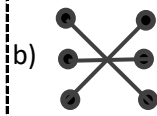
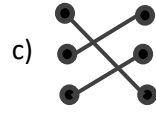
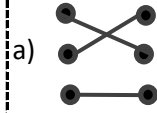
Paslanmaz çelik üretiminde, kaplamacılıkta kullanılır.

Demir



Yağlı boya, lastik ve pil yapımında kullanılır.

Yukarıda madenler ve kullanım alanları eşleştirilirse, verilen seçeneklerin hangisi doğru olur?



S2.



40 bin yıl önce



16 bin yıl önce



138 bin yıl önce



21 bin yıl önce

Yukarıda bulunan fosillerin bulunuş tarihi dikkate alındığında hangi fosilin yaşı daha gençtir?

- a)  b)  c)  d) 

S3.

Yerkabuğunun kara tabakası kayalardan oluşur.

Altın, gümüş, mermer gibi bazı kayaların ekonomik değeri yoktur.

Süs eşyalarında, mutfak aletlerinde, kablolar ve elektrikli aletlerde bakır kullanılır.

Yukarıda verilen bilgiler doğru yanlış etkinliği ile işaretlendiğinde hangi seçenek doğru olur?

- a) Y - Y - D c) D - D - Y  
b) D - Y - D d) Y - D - Y

S4. "Fosilleri inceleyen bilim insanlarına.....denir." Cümlesi hangi sözcük ile tamamlanmalıdır?

- a) Jeolog c) Paleontolog  
b) Fizyoterapist d) Steteskop