

S1. Yandaki sözcüklerin eş anlamlarını bulmacanın içinde bulup boyayalım.

T	E	Ö	T	N	E	Ş	P	O	N	B	İ
A	S	A	L	A	K	Ü	E	S	E	O	T
R	T	Ö	N	Ç	A	P	U	R	T	Ü	R
S	I	N	I	F	Ç	H	E	F	A	U	M
N	O	U	S	T	A	E	B	U	L	İ	N
I	S	L	E	R	U	S	K	O	K	Y	A
T	S	L	H	A	P	İ	S	Y	P	E	N

zan

parazit

zindan

derslik

S2. Verilen sözcüklerden **Büyük Ünlü Uyumu**na uyanları (X) ile işaretleyelim.

	kalemlik		yandaki
	sözcükler		abartılı
	komşunun		sakince
	çerçeve		fiziksel

S3. p-ç-t-k ile biten sözcüğe, ünlü ile başlayan bir ek getirildiğinde bu sesler yumuşayarak b - c - d - g - ğ seslerine dönüşür. Buna **Ünsüz Yumuşaması** denir.

Aşağıdaki sözcüklere sesli harf ekleyerek yeniden yazalım.

kötülük	ü	→	
çorap	ı	→	
sebep	i	→	
araç	ı	→	

S4. Aşağıda sözcükleri hecelerine ayırarak yazalım.

Sözcük	Heceleri
Yeşilirmak	
Kızılay	
büyükelçi	
konukevi	
Kırlareli	
denizaltı	

S5. Verilen cümledeki altı çizili sözcüğün eş seslisini farklı bir anlamıyla yeni bir cümlede kullanalım.

" ABD'de görülen hortum can ve mal kaybına yol açtı ."

.....

S1. Verilen sayının okunuşunu yazalım.

a) 107. 046 :

S2. Okunuşu verilen sayıyı rakamla yazalım.

On bin yedi yüz seksen iki :

S3. Verilen tabloda boş bırakılan yerlere uygun sayı ve ifadeleri yazalım.

Sayı						
B. Adı	Yüz B.	On B.	Bin.	Y	O	B
Basamak Değeri						
Okunuşu	Elli üç bin dört yüz sekiz					

S4. Aşağıda verilen sayıyı çözümleyerek yazalım.
285.937

S5. Aşağıda verilen sayıları büyükten küçüğe doğru (>, <) işaretlerini kullanarak sıralayalım.

500.684 - 296.772 - 712.486 - 438.550 - 234.027

S6. Aşağıda sayı değerleri karışık olarak verilen sayıları alta verilen kutucuğa yazalım.

Onlar B : 5

Yüz.Bn B: 6

Yüzler B : 8

Binler B : 1

Birler B : 3

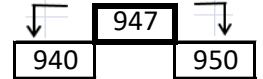
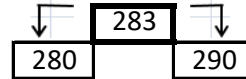
Yüzler B: 1

Birler B: 4

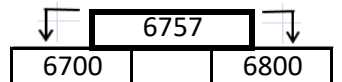
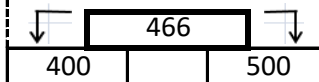
On Bin. B: 7

Binler B: 2

S7. Üstteki sayının en yakın olduğu onluğu boya.



S8. Üstteki sayının en yakın olduğu yüzlüğü boya.



S9. " 2 - 4 - 8 - 16 - 32 - 64 - ? " örüntüsünde "?" yerine hangi sayı yazılmalıdır?

S1. Aşağıda verilenlerden hangisi duygusal özelliklerimizden biri **olamaz**?

- a) Okumak c) Karamsarlık
b) Şaşkınlık d) Hoşgörü

- S2. ❖ Parmak izimiz.....yerine kullanılabilir.
❖ Dış görünüşümüzözelliklerimizdir.
❖ Sürücü belgesinin diğer adı.....tir.

Yukarıda boş bırakılan yerlere aşağıda verilen sözcükler yazıldığında hangi sözcük boşa kalır?

- a) İlgi c) Ehliyet
b) Fiziksel d) İmza

S3. "Kendimizi, karşımızdaki bireyin yerine koyup anlamaya çalışmaya.....denir." cümlesinde boş bırakılan yere aşağıdakilerden hangisi yazılmalıdır?

- a) Kronoloji c) Empati
b) Biyoloji d) İlgi ve Yetenek

- S4. ❖ parmak izi □ göz retinası
◆ avuç içi çizgileri ☞ parmak sayısı

Yukarıda verilenlerden hangisi biyolojik kimliğimizi **oluşturmaz**?

- a) ❖ c) ◆
b) □ d) ☞

S5. Verilen bilgilerden hangisi **yanlıştır**?

- a) Ehliyet ve pasaport kimlik belgesine örnek gösterilemez.
b) Nüfus cüzdanı kızların pembe, erkeklerin mavi renktedir.
c) Toplumunu oluşturan insanların her birine birey denir.
d) Sevgi, üzüntü ve endişe birer duygudur.

- S6. ◆ Renkli gözlü olmak duygusal özelliğimizdir.
★ Müzik dinlemeyi sevmek sosyal özelliğimizdir.
● Resim yapmak sosyal özelliğimizdir.
☒ Boyumuzun kısa olması fiziksel özelliğimizdir.

Yukarıdakilerden hangisi **yanlış bir ifadedir**?

- a) ◆ b) ★ c) ● d) ☒

S7. Kimliğini kaybeden bir kişi yeniden kimlik alabilmek için aşağıdaki kurumlardan hangisine başvurmalıdır?

- a) Emniyet Müdürlüğü c) İçişleri Bakanlığı
b) Nüfus Müdürlüğü d) Millî Eğitim Müdürlüğü

S1. Verilen bilgilerden hangisi **yanlıştır**?

- a) Madenler günlük hayatta kullanılmaz.
b) Fosillerin oluşumu için her ortam uygun değildir.
c) Kayaçların yapısında mineral ve maden vardır.
d) Dinozor kemikleri fosil olarak nitelendirilir.

S2.

I.



II.



III.



IV.



Yukarıda verilen kayaçların en küçükten en büyüğe doğru sıralanışı aşağıdakilerden hangisidir?

- a) IV - II - I - III c) II - III - IV - I
b) I - II - III - IV d) I - IV - III - II

S2. " Dünya'nın Güneş etrafında dolanırken izlediği yola.....denir." cümlesinde boş bırakılan yere aşağıdakilerden hangisi yazılmalıdır?

- a) Yörünge c) Kutuplar
b) Ekvator d) Yönler

S3.

- Dünya'mızın dönme hızı değişmez.
 Dünya, kendi etrafında batıdan doğuya doğru döner.
 Dünya'mız yıl içinde Güneş'e yaklaşıp uzaklaşır.
 Dünya kendi etrafında döner, Güneş etrafında ise dolanır.

Yukarıda verilen doğru yanlış etkinliğine göre, aşağıda verilen seçeneklerden hangisi doğru olur?

- a) D - D - Y - Y c) Y - D - D - D
b) D - Y - Y - D d) Y - D - D - Y

S4. Görsellerden hangileri fosil olarak kabul edilir?

a) I ve IV

I.



II.



b) I ve II

c) II ve III

III.



IV.



d) I ve III