

S1.Sözcüklerin zıt (**karşıt**) anlamlarını yazalım.

a) süratli	➔	araç	yavaş	kızgın
b) yalan	➔	gerçek	laf	dünya
c) bayat	➔	kenar	taze	eğri
ç) yoksul	➔	uygun	gereksiz	zengin
d) çift	➔	matematik	sayı	tek

S2. Verilen cümledeki altı çizili sözcüğün eş seslisini kullanarak **yeni ve farklı anlamda** bir cümle yazalım.

" Yemeğe biraz daha tuz **kat** olur mu? "

S3. Verilen tabloda istenen bilgileri yazalım.

Sözcükler	İnce Ünlüler	Kalın Ünlüler	Ünsüzler
kaynaştırma			
yukarıdaki			
teknoloji			
atasözleri			

S4. Onlar yazmasaydı nereden bilecektim
Dünyanın yuvarlak olduğunu?
Nasıl yüzdüğünü vapurun?
Başkası söylese inanmazdım.
Yağmur yağdırdığına şu bulutun.
Yukarıdaki şiire göre, aşağıdaki soruları cevaplayalım.

- a) **Şiir kaç dizeden oluşuyor?**.....
- b) **Dördüncü mısra kaç hecedir?**.....
- c) **İkinci mısrası kaç sözcükten oluşur?**.....
- ç) **Son mısrası kaç sestten oluşur?**.....
- d) **Şair, yazılanlardan neleri öğrenmiş?**

S5. " Soruların cevabını en kısa zamanda bulmalıyız."
cümlesindeki sözcükleri alfabetik sıraya koyup yeniden yazalım.

S6. Aşağıdaki cümlelerde **Ünsüz Benzeşmesi** görülen sözcükleri kutu içine alıp gösterelim.(f-s-t-k-ç-ş-h-p)

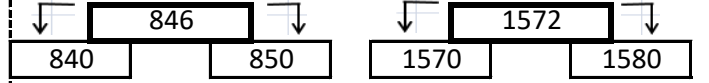
- a) Bizim lokantaya yeni bir bulaşıkçı aranıyordu.
- b) Bu markette aradığım herşeyi buluyorum.

S1.Verilen sayının okunuşunu yazalım.

a) **460.109 :**

S2.Okunuşu verilen sayıyı rakamla yazalım.
elli yedi bin iki yüz kırk :

S3.Üstteki sayının **en yakın olduğu onluğu** boya.



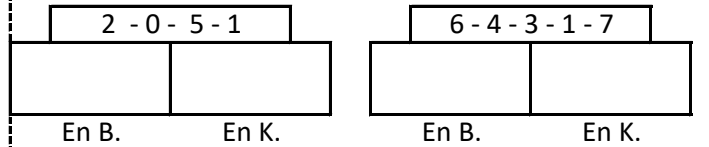
S4. Aşağıda verilen sayıyı çözümleyerek yazalım.
23.152

S5. **1667 < ?** Eşitsizliğine göre, " ? " yerine yazılabilecek en küçük sayı kaçtır?

S6.Aşağıda bölükleri verilen sayıyı yazalım.

Binler bölüğü : 5	Sayı
Birler Bölüğü : 69	

S7.Verilen sayılar birer kez kullanılarak yazılabilecek en büyük ve en küçük sayıları yazalım.

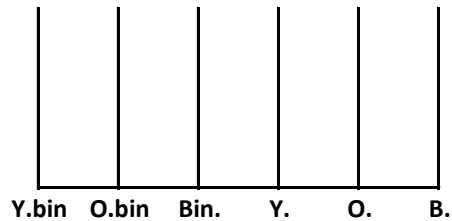


S8. Aşağıda verilen sayıları karşılaştıralım. (> , < , =)

- a) 859.....1500 b) 34.518.....29.575

S9. " 457 - 459 - 465 - 467 - 473 - ? " örüntüsünde " ? " yerine kaç yazılmalıdır?

S10. " **Doksan dört bin iki yüz altı** " sayısını abaküs üzerinde küçük boncuklar çizerek gösteriniz.



S1. Aile bireylerinin kimlik kartlarında bulunan bilgilerden hangisi her birey için aynı olabilir?

- a) Baba adı
b) Medeni hali
c) Cinsiyeti
d) Soyadı

S2. Yeni kimlik kartlarımız ile ilgili aşağıda verilen bilgilerden hangisi **yanlıştır**?

- a) Kimlik kartlarının rengi herkes için aynıdır.
b) Yeni kimlik kartlarında çip bulunmaktadır.
c) Kimlik kartlarının arka yüzünde Türk bayrağı vardır.
d) Kimlik kartının verildiği makam İçişleri Bakanlığı'dır.

- S3.** ❖ Ailemizin istekleri
✓ Kendi isteklerimiz
⌘ Yeteneklerimiz
□ İlgilerimiz

Okulda katılmak istediğimiz sosyal etkinliklerde; yukarıdakilerden hangilerini öncelikle dikkate almalıyız?

- a) □ - ✓
b) □ - ⌘ - ❖
c) ✓ - ❖
d) ⌘ - □ - ✓

- S4.** I. Sadık çok çalışkandır.
II. Gizem esmer tenlidir.
III. Faruk gözlük kullanmaktadır.
IV. Ünal biraz kısa boyludur.

Yukarıda bahsedilen çocuklardan hangisiyle ilgili bir fiziksel özellik **belirtilmemiştir**?

- a) I b) II c) III d) IV

S5. Aşağıda verilen kavramların hangisi farklılıklara saygı duymanın bir başka ifadesi olabilir?

- a) Hoşgörü
b) Diyalog
c) Empati
d) Yardımlaşma

S6. Hayatımızdaki olayları kronolojik olarak sıralarken öncelikle dikkat ettiğimiz kriter hangisidir?

- a) Olaya dahil olan kişiler
b) Olayların önemi
c) Olayların tarihi
d) Olayların yeri

- S7.** I. Duygularımız, düşüncelerimizi etkiler.
II. Nefret ve öfke olumlu duygularımızdır.
III. Bizden farklı kişilerle alay edebiliriz.
IV. Duygu ve düşüncelerimiz yüzümüze yansır.

Yukarıda verilen ifadelerden kaç tanesi doğrudur?

- a) 1 b) 2 c) 3 d) 4

S1. Oyuncak bir topaça oynayan Ferhat, Dünya'nın yaptığı hareketlerden hangisini anlatıyor olabilir?

- a) Dönme
b) Dolanma
c) Elips
d) Yörünge

- S2.** Dünya kendi etrafında tam bir tur dönüşünü 1 ayda tamamlar.
 Ülkemiz Dünya'nın kuzey yarım küresinde yer alır.
 Gece ve gündüz süreleri her zaman eşittir.

Yukarıda verilen doğru yanlış etkinliğine göre hangi seçenek doğru olur?

- a)

D
D
Y

 b)

D
Y
D

 c)

Y
D
Y

 d)

Y
Y
D

S3. 4 yılda bir artan 6 saatlerin biriktirilmesiyle bazı yıllarda Dünya'mız Güneş etrafında dolanmasını 366 günde tamamlar. Buna artık yıl da denir. Artık yıllarda.....ayının günleri 29 gün olarak sayılır.

Yukarıdaki açıklama aşağıdaki aylardan hangisiyle ilgili olabilir?

- a) Ocak b) Şubat c) Mart d) Eylül

S4. Verilenlerden hangisi maden **değildir**?

- a) alüminyum
b) çakıl taşı
c) krom
d) gümüş

S5. Oksijensiz ortamlarda sıkışarak uzun yıllar bozulmadan kalan ölmüş canlı kalıntlarına ne ad verilir?

- a) kayaç
b) mineral
c) maden
d) fosil

S6. Dünya'nın kendi etrafında dönme yönü aşağıdakilerden hangisidir?

- a) Kuzeyden güneye
b) Batıdan doğuya
c) Güneyden batıya
d) Kuzeyden doğuya

S7. Aşağıda verilen ifadelerden hangisi **yanlıştır**?

- a) Dünya, Güneşin etrafında elips şeklinde bir yörüngede dolanır.
b) Güneş ışınları Dünya'nın her yerine dik olarak gelir.
c) 21 Mart ve 23 Eylül'de gece ve gündüz süreleri eşittir.
d) Mevsimler, Dünya'nın Güneş etrafında dolanması sonucunda meydana gelir.