


Bugünün sayısı

86

Yazı ile

.....



Onlar Bas.	Birler B.

Onluk ve birlikler

1 fazlası $86 + 1 = \dots\dots\dots$
1 eksiği $86 - 1 = \dots\dots\dots$
10 fazlası $86 + 10 = \dots\dots\dots$
10 eksiği $86 - 10 = \dots\dots\dots$

Sayı doğrusunda önceki ve sonraki sayıları yazın

86



53 sayısında 5 rakamının basamak değeri 50

53 sayısında 3 rakamının basamak değeri 3

36 sayısında 3 rakamının basamak değeri

27 sayısında 7 rakamının basamak değeri

25 sayısında 2 rakamının basamak değeri

12 sayısında 2 rakamının basamak değeri

8 onluk + 5 birlik = 85

4 onluk + 1 birlik =

3 onluk + 4 birlik =

5 onluk + 2 birlik =

7 onluk + 0 birlik =

9 onluk + 6 birlik =

Büyükten küçüğe sıralayın.

45, 80, 77, 23, 19



55, 50, 87, 30, 5




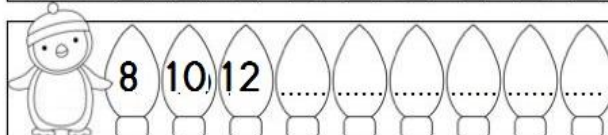
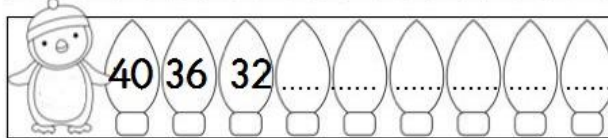
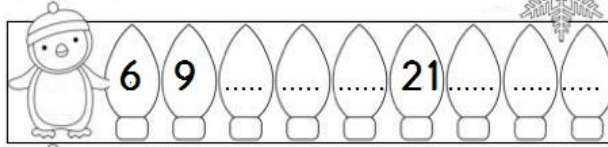
41, 20, 22, 24, 4



16, 39, 28, 40, 51



Örüntüleri tamamlayın, kuralı yazın



Bir basamaklı sayıların en küçüğü:



İki basamaklı sayıların en küçüğü:



Bir basamaklı sayıların en büyüğü:



İki basamaklı sayıların en büyüğü:

