




Bugünün sayısı

86

Yazı ile

.....



Onlar Bas.	Birler B.

Onluk ve birlikler

1 fazlası  $86 + 1 = \dots\dots\dots$

1 eksiği  $86 - 1 = \dots\dots\dots$

10 fazlası  $86 + 10 = \dots\dots\dots$

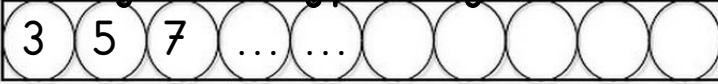
10 eksiği  $86 - 10 = \dots\dots\dots$

Sayı doğrusunda önceki ve sonraki sayıları yazın

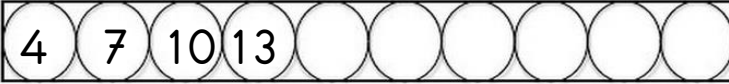
86



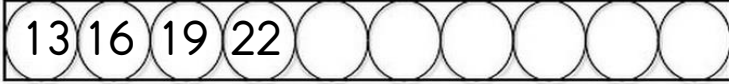
Örüntüyü tamamlayıp kuralı yazın.



Kural: .....

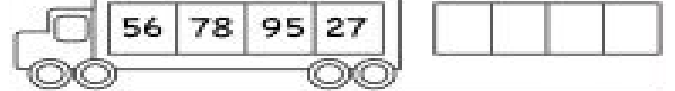

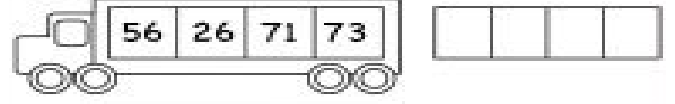
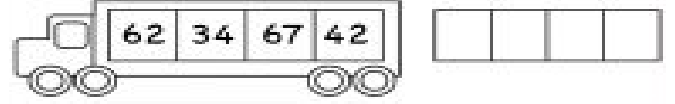


Kural: .....




Kural: .....

Büyükten küçüğe sıralayın



Büyük sayıyı boyayın.



Sayı	67	
Basamak adları	..... basamağı	..... basamağı
Rakamın basamak değeri	.....	.....
Sayının okunuşu	.....	

Sayı	29	
Basamak adları	..... basamağı	..... basamağı
Rakamın basamak değeri	.....	.....
Sayının okunuşu	.....	