

Metni anlayana kadar okuyunuz.

DERS PROGRAMI



Okulda yeni bilgiler öğrenir, yeteneklerimizi ve becerilerimizi geliştiririz. Bunun için bizlere bazı görev ve sorumluluklar düşer.

Okula hazırlıklı gitmek görev ve sorumluluklarımızdan biridir. Ödevlerimizi zamanında ve eksiksiz yapmalıyız. Okul çantamıza ders programımıza göre akşamdan gerekli araç gereçleri yerleştirmeliyiz. Zamanında uyanmalı, okula geç kalmamalıyız. Okul hazırlıkları, düzenli olmamızı ve derslerimizi daha iyi anlamamızı sağlar. Böylece daha başarılı oluruz.

1-Okula niçin geliriz?

.....

.....

2-Bir öğrenci olarak görev ve sorumluluklarımız nelerdir?

.....

.....

.....

.....

Alfabadeki eksik harfleri yazın.
Sesli harfleri kırmızı, sessizleri yeşil boyayın.

A	B			E			Ğ	
		J			N			
R			U				Z	

Sesli Harfler

Sessiz Harfler

Aşağıdaki sözcüklerdeki sesli harfleri yazın.

Atatürk	a,a,ü	sorumluluk	
lider	i,e	ders	
cumhuriyet		ödevler	
okul		düzenli	
arkadaşlık		bilgi	



$27 = 2 \text{ onluk} + 7 \text{ birlik}$

$12 = \dots\dots\text{onluk} + \dots\dots \text{birlik}$

$43 = \dots\dots\text{onluk} + \dots\dots \text{birlik}$

$11 = \dots\dots\text{onluk} + \dots\dots \text{birlik}$

$20 = \dots\dots\text{onluk} + \dots\dots \text{birlik}$

$35 = \dots\dots\text{onluk} + \dots\dots \text{birlik}$

$32 = \dots\dots\text{onluk} + \dots\dots \text{birlik}$

$18 = \dots\dots\text{onluk} + \dots\dots \text{birlik}$

$19 = \dots\dots\text{onluk} + \dots\dots \text{birlik}$

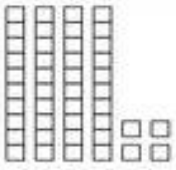









$39 = \dots\dots\text{onluk} + \dots\dots \text{birlik}$


$51 = \dots\dots\text{onluk} + \dots\dots \text{birlik}$

$26 = \dots\dots\text{onluk} + \dots\dots \text{birlik}$



Modellenen sayıları yazın.

A. 	B. 	C. 	
D. 	E. 	F. 	
G. 	H. 	I. 	J. 




Aşağıdaki sayıları yazı ile yazın.




27	Yirmi yedi	41	
39		16	
45		94	
18		55	
77		80	
12		93	
35		46	
53		34	

Aşağıdaki sayıların basamak adlarını yazınız.

47



18



79

