

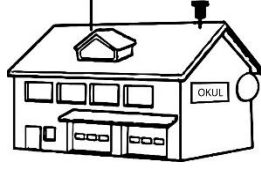
## OKULUMUN YERİ



Okulumuzun bulunduğu sokak ve cadde, çevresinde bulunan yapı ve kurumların neler olduğunu öğrenmeliyiz. Yakında cami, hastane, eczane ve market gibi yerler olabilir. Okulumuzun yerini tarif ederken bu yerlerden yararlanabiliriz.

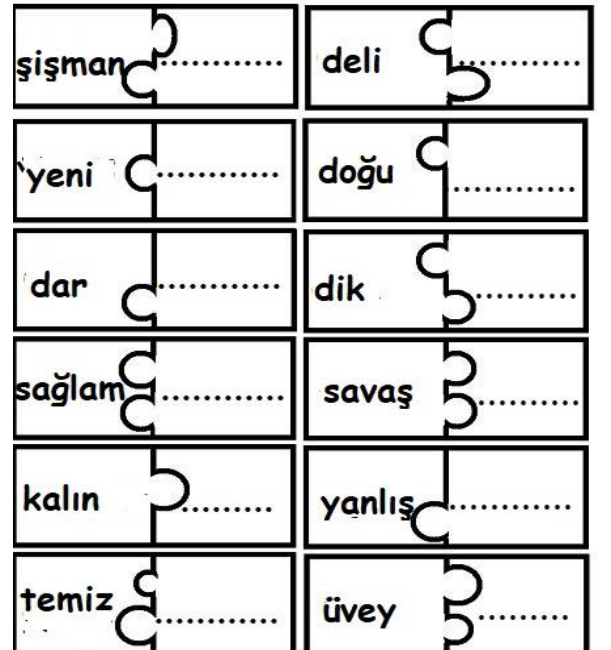
Okulumuzun adı:.....  
Okulumuzun sağında ..... vardır.  
Okulumuzun solunda ..... vardır.  
Okulumuzun ön tarafında ..... vardır.  
Okulumuzun arka tarafında ..... vardır.

Aşağıdaki krokide kendi okulunuzun çevresindeki yerleri çizin.



Satır sonuna sığmayan sözcükleri bölerek yazalım.

Zıt anlamlısını yazın.




Bugünün sayısı

37

Yazı ile

.....




Onlar Bas.	Birler B.

Onluk ve birlikler

1 fazlası  $37 + 1 = \dots\dots\dots$   
1 eksiği  $37 - 1 = \dots\dots\dots$   
10 fazlası  $37 + 10 = \dots\dots\dots$   
10 eksiği  $37 - 10 = \dots\dots\dots$

Sayı doğrusunda önceki ve sonraki sayıları yazın

37



Doğru ifadeleri eşleştirin.

2 düzine

30 tanedir.

3 deste

48 tanedir.

4 düzine

50 tanedir.

5 deste

36 tanedir.

3 düzine

24 tanedir.

$24 = 2$  onluk +  $4$  birlik = yirmi dört

$35 = \dots$  onluk +  $\dots$  birlik =  $\dots\dots\dots$

$46 = \dots$  onluk +  $\dots$  birlik =  $\dots\dots\dots$

$61 = \dots$  onluk +  $\dots$  birlik =  $\dots\dots\dots$

$82 = \dots$  onluk +  $\dots$  birlik =  $\dots\dots\dots$

$9 = \dots$  onluk +  $\dots$  birlik =  $\dots\dots\dots$

$11 = \dots$  onluk +  $\dots$  birlik =  $\dots\dots\dots$



Sayı	78	
Basamak adları	..... basamağı	..... basamağı
Rakamın basamak değeri	.....	.....
Sayının okunuşu	.....	

Sayı	43	
Basamak adları	..... basamağı	..... basamağı
Rakamın basamak değeri	.....	.....
Sayının okunuşu	.....	

Sayı	96	
Basamak adları	..... basamağı	..... basamağı
Rakamın basamak değeri	.....	.....
Sayının okunuşu	.....	

Terlikleri ikiye sayıp yazın.



--	--	--	--	--

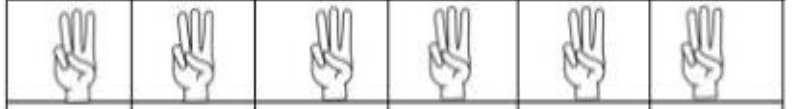


--	--	--	--	--

Parmakları üçer sayıp yazın.



3	6				
---	---	--	--	--	--



21					36
----	--	--	--	--	----