

## MATEMATİK

S1. Verilen işlemleri yapalım.

$$\begin{array}{r} 775 \\ + 128 \\ \hline \end{array}$$

$$\begin{array}{r} 637 \\ - 464 \\ \hline \end{array}$$

$$\begin{array}{r} 73 \\ \times 8 \\ \hline \end{array}$$

$$\begin{array}{r} 653 \\ \hline \end{array}$$

S2.

Renkler	satılan araç sayısı
mavi	### ##
beyaz	### ## ##
yeşil	
kırmızı	### ## ##
kahverengi	###

Yukarıda verilen çetele tablosuna göre, aşağıdaki soruları cevaplayalım.

a) Toplam kaç araç satılmıştır?

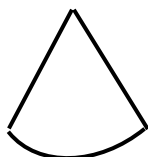
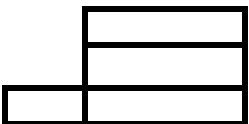

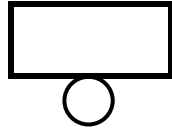
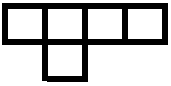
b) En çok ve en az satılan araçların renkleri nelerdir?

c) Satılan mavi renk araçlar, kahverengi araçlardan kaç kaç tane fazladır?

ç) Kırmızı araçlardan kaç tane daha satılırsa, iki düzine kırmızı araç satılmış olur?

S3. 6'şar 60' a kadar yaz ve ezberle.

S4. Geometrik şekillerin açınımlarındaki eksik parçayı çizerek tamamlayalım.



## TÜRKÇE

S1. Verilen sözcükleri hecelerine ayıralım.

Sözcükler	Heceleri
hanımeli	
ilkokul	
kangurular	
cumhuriyet	
başöğretmen	
kızılay	
semizotu	

S2. " kabakulak" kelimesini satır sonuna sığmadığında nasıl yazarız? Boş bırakılan yere yazalım.

--	--	--

S3. "Sağlıklı olmak için temizliğime dikkat ederim." Cümlesi kaç heceden oluşur?

## FEN BİLİMLERİ

S1.



- Dünya'nın şekli piramide benzer.  
Balıkların yaşam alanı su tabakasıdır.  
Dünya'yı saran gaz tabakasına atmosfer denilir.

Yukarıdaki ifadeler doğru ve yanlış olarak cevaplandırıldığında sıralama nasıl olur?

- a) D-D-Y      b) Y - D - D      c) Y - Y - D

S2. Dünya'nın yuvarlak olduğunu söyleyen Türk bilim adamı aşağıdakilerden hangisidir?

- a) Macellan      b) Thales      c) Biruni

S3. Seçenlerde verilen nesnelere hangilerinin şekli Dünya'ya benzemektedir?

- |             |          |             |
|-------------|----------|-------------|
| a) Portakal | b) Muz   | c) Portakal |
| Top         | Portakal | Tekerlek    |
| Karpuz      | Top      | Top         |

S4. " Soner, babası ile teknede balık tutmaya bayılır. Sık sık denize açılıp, balık tutarlar. "

Verilen bilgiye göre, tekne Dünya'nın hangi katmanları ile temas etmektedir?

- a) Hava tabakası ve Kara tabakası  
b) Hava tabakası ve Su tabakası  
c) Su tabakası ve Kara tabakası

S5. Su tabakasını oluşturan su kütlelerinden en büyüğü aşağıdakilerden hangisidir?

- a) Göl      b) Deniz      c) Okyanus