

MATEMATİK

S1. Verilen işlemleri yapalım.

$$\begin{array}{r} 246 \\ + 376 \\ \hline \end{array}$$

$$\begin{array}{r} 536 \\ - 249 \\ \hline \end{array}$$

$$\begin{array}{r} 94 \\ \times 2 \\ \hline \end{array}$$

$$\begin{array}{r} 574 \\ \hline \end{array}$$

S2.

İçecekler	satılan içecek sayısı
çay	▲▲▲▲▲
kola	▲▲▲▲
ayran	▲▲
limonata	▲▲▲
meyve suyu	▲▲▲▲▲

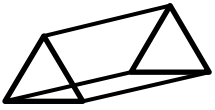
Her şekil 4 içeceği göstermektedir.

Yukarıda verilen çetele tablosuna göre, aşağıdaki soruları cevaplayalım.

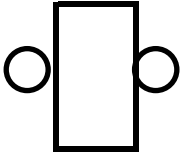
- a) Toplam kaç tane içecek satılmıştır?
- b) En çok ve en az satılan içecekler nelerdir?
- c) Satılan çaylar, satılan ayranlardan kaç tane fazladır?
- ç) Bir düzine satılan içecek hangisidir?

S3. 7'şer 70' e kadar yaz ve ezberle.

S4. Geometrik şekillerin istenilen özelliklerini yazalım.

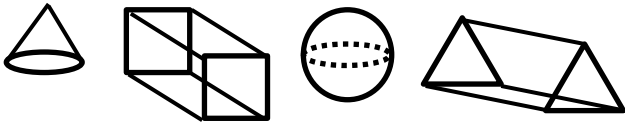


Cismin adı:
Yüzey sayısı:
Köşe sayısı:
Ayrıt sayısı:



Cismin adı:
Yüzey sayısı:
Köşe sayısı:
Ayrıt sayısı:

S5. Verilen geometrik cisimleri, yüzey sayılarına göre, büyükten küçüğe doğru, çizerek yeniden sıralayalım.



TÜRKÇE

S1. Satır sonuna sığmayan özel isimlerin yazımında yapılan yanlışları düzelterek yeniden yazalım.

YANLIŞ	DOĞRU
Ankara'nın	
Kayseri'de	
Samsun'un	

S2. Yanlış hecelenen sözcüklerin doğrusunu yazalım.

YANLIŞ	DOĞRU
Ba - lık - e - sir	
ya - yın - e - vi	

S3. " vücutumuz " kelimesini satır sonuna sığmadığında nasıl yazarız? Boş bırakılan yere yazalım.

--	--	--

S4. "Bugünün küçükleri, yarının büyükleridir." Cümlesi kaç heceden oluşur?

FEN BİLİMLERİ

S1. Dünya üzerinde pek çok değişik araç kullanılarak seyahat edilmektedir. Buna göre, neden Dünya'nın her yerinde sadece otomobillerle seyahat edilemez?

- a) Dünya değişik katmanlardan oluştuğu için.
- b) Dünya, Güneş'in etrafında sürekli döndüğü için.
- c) Diğer araçlar otomobilden hızlı olduğu için.

S2. Dünya'nın şeklini en doğru olarak nereden bakıp görebiliriz?

- a) Balkona çıkıp ufuk çizgisine doğru bakarak.
- b) Yüksek dağlara çıkıp, gökyüzüne bakarak.
- c) Dünya'nın uzaydan çekilmiş fotoğraflarına bakarak.

S3. Güneş'ten gelen zararlı ışınların yeryüzüne ulaşmasını engelleyen katman hangisidir?

- a) Kara katmanı b) Hava katmanı c) Su katmanı

S4. Verilen ifadelerden hangisi yanlıştır?

- a) Hava olayları su katmanında gerçekleşir.
- b) Karalar, toprak ve kayalardan oluşmuştur.
- c) Canlıların yaşamında hava, su, toprak vazgeçilmez birer unsurdur.

S5. Verilen araçlardan hangisi ile gökyüzünü kolayca inceleriz?

- a) Mikroskop b) Teleskop c) Steteskop

S6. Dünya'mız hangi varlığa daha çok benzer?

- a) Piriñç b) Mercimek c) Portakal