

MATEMATİK

S1. Verilen işlemleri yapalım.

$$\begin{array}{r} 608 \\ + 244 \\ \hline \end{array}$$

$$\begin{array}{r} 753 \\ - 484 \\ \hline \end{array}$$

$$\begin{array}{r} 67 \\ \times 3 \\ \hline \end{array}$$

$$\begin{array}{r} 88 \\ \hline 3 \end{array}$$

S2. Verilen sayıların okunuşunu yazalım.

a) 645 :

b) 105 :

S3. Okunuşu verilen sayıları rakamla yazalım.

a) Üç yüz on sekiz :

b) Dokuz yüz bir :

S4. Tabloda boş bırakılan yerleri sayılara göre dolduralım.

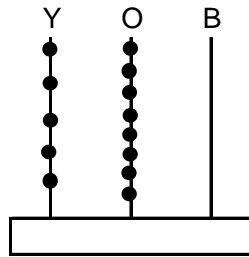
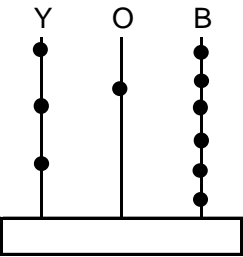
Sayı	749		
Basamak Adı	Yüzler B.		Birler B.
Basamak Değeri			
Okunuşu			

S5. Verilen sayıları büyükten küçüğe doğru sıralayalım.

" 436 - 285 - 722 - 106 - 505 - 390 "

.....>.....>.....>.....>.....>.....

S6. Abaküste gösterilen sayıyı yazalım.



S7. " 4 - 9 - 3 " sayıları kullanılarak yazılabilecek üç basamaklı en büyük ve en küçük sayıları yazalım.

En büyük sayı

En küçük sayı

S8. Verilen sayıları aralarına <, >, = işareti koyarak karşılaştıralım.

95 132

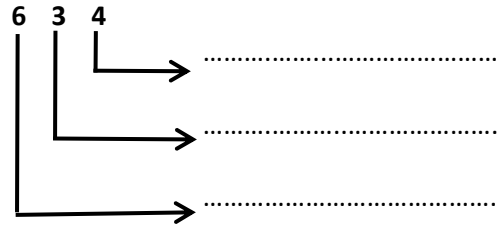
402 402

479 245

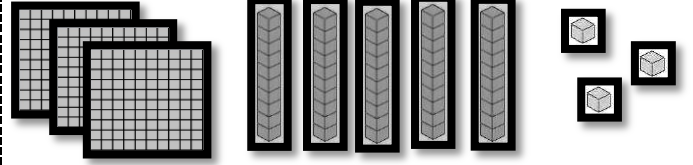
385 700

S9. 8'er 80' e kadar yaz ve ezberle.

S10. Verilen sayının basamak adlarını yazalım.

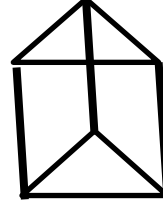


S11. Modelle gösterilen sayıyı rakamla yazalım.



.....

S12. Verilen geometrik şeklin istenen özelliklerini yazıp, açılımını çizelim.




Cismin adı:

Yüzey sayısı:

Köşe sayısı:


Ayrıt sayısı:

Şeklin Açılımı



S13. Bir mağazada bir gün boyunca 20 bot, 6 terlik, 14 çizme, 10 spor ayakkabı, 8 de kundura satışı yapılmıştır.

Buna göre, elde edilen bu verileri sıklık ve çetele tablosu olarak gösterelim.



TÜRKÇE

S1. Satır sonuna sığmayan sözcüklerin yazımında yapılan yanlış düzelterek yeniden yazalım.

YANLIŞ	DOĞRU
İtalya'- da	
a- rabanın	

S2. Verilen sözcükleri alfabetik sıraya göre yazalım.
" Sucuk - Sopa - Silah - Sabah - Süpürge - Seçim "

1..... 4.....

2..... 5.....

3..... 6.....

S3. Verilen sözcükler Büyük Ünlü Uyumu kuralına uyorsa başına "D", uymuyorsa başına "Y" harfi yazalım.

sevimli	ilave
acele	mikroskop
yarıyıl	basamaklar

S4. "Bu sene kış mevsimi biraz erken geldi."

Cümlesine göre;

a) Cümle kaç sestene oluşur?.....

b) Cümle kaç heceden oluşur?

c) Cümle kaç sözcükten oluşur?.....

S5. " alfabetik " kelimesini satır sonuna sığmadığında nasıl yazarız? Boş bırakılan yere yazalım.

	-		-		-
--	---	--	---	--	---

S6. Verilen sözcüklerin eş anlamlarını yazalım.

a) obje: c) kayık:

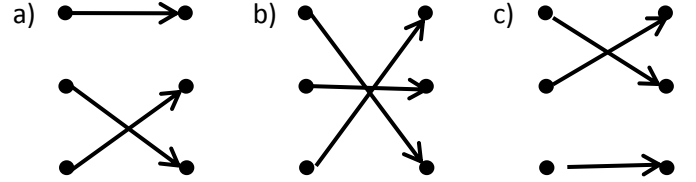
b) derya : d) merkep:

c) haşarı: e) ant:

FEN BİLİMLERİ

S1. Kara tabakası	Yağmur, rüzgar, fırtına, kar gibi olaylar gerçekleşir.
Su tabakası	Yeryüzünün dörtte üçünü oluşturur.
Hava tabakası	Üzerinde canlılar yaşar.

Yukarıda verilen bilgilere göre eşleşme yapılırsa görünüm nasıl olur?



S2. "Denizden kıyıya doğru yaklaşan geminin önce..." cümlesi hangi seçenikle tamamlanmalıdır?

- a) dumanı görülür b) bacası görülür
c) gövdesi görülür

S3. Verilen bilgilerden hangisi yanlıştır?

- a) Dünya'mızın şekli bir küreye benzer.
b) Dünya'mızda tatlı su kaynakları çok azdır.
c) Yağmur, dolu, rüzgar gibi olaylar kara tabakasında oluşur.

S4. " Sık sık doğa gezilerine çıkarım. Sabahın erken saatlerinde ormanda gezmek, mis gibi kekik kokusu eşliğinde yürümek en güzel şey olsa gerek."

Diyan bir kişi, Dünya'mızın hangi katmanlarına temas etmiş olur?

- a) Kara ve hava tabakası
b) Hava ve su tabakası
c) Kara ve su tabakası

S5. Aşağıdaki hayvanlardan hangisi kara tabakasında yaşar?

- a) Köpek balığı
b) Solucan
c) Balina

S6.	1	Ahtapot	4	Balina
	2	Köpek	5	Penguen
	3	Maymun	6	Serçe

Yukarıda verilen canlılardan hangileri Dünya'mızın su katmanında yaşar?

- a) 1. - 4. - 5. b) 2. - 3. - 6.

c) 3. - 4. - 2.