

## MATEMATİK

S1. Verilen işlemleri yapalım.

$$\begin{array}{r} 172 \\ + 583 \\ \hline \end{array}$$

$$\begin{array}{r} 648 \\ - 392 \\ \hline \end{array}$$

$$\begin{array}{r} 58 \\ \times 6 \\ \hline \end{array}$$

$$\begin{array}{r} 432 \\ \hline \end{array}$$

S2. Verilen sayıların okunuşunu yazalım.

a) 360 : .....

b) 784 : .....

S3. Okunuşu verilen sayıları rakamla yazalım.

a) Altı yüz seksen sekiz : .....

b) Dört yüz : .....

S4. Tabloda boş bırakılan yerleri sayılara göre dolduralım.

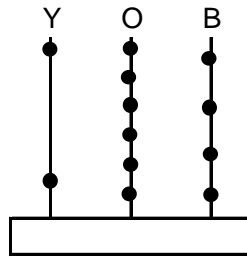
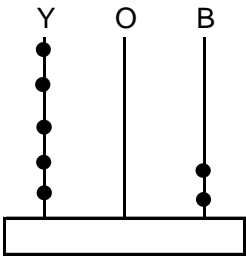
Sayı	853	
Basamak Adı	Onlar B.	Birler B.
Basamak Değeri		
Okunuşu		

S5. Verilen sayıları büyükten küçüğe doğru sıralayalım.

" 390 - 109 - 476 - 249 - 900 - 517 "

.....&gt;.....&gt;.....&gt;.....&gt;.....&gt;.....

S6. Abaküste gösterilen sayıyı yazalım.



S7. " 0 - 6 - 4 " sayıları kullanılarak yazılabilecek üç basamaklı en büyük ve en küçük sayıları yazalım.

En büyük sayı	En küçük sayı
_____	_____
_____	_____

S8. Verilen sayıları aralarına &lt;, &gt;, = işareti koyarak karşılaştıralım.

854 ..... 625      125 ..... 142

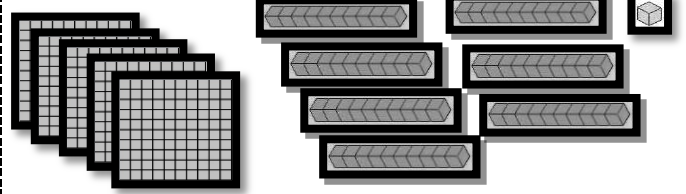
901 ..... 799      688 ..... 375

S9. 9'ar 90'a kadar yaz ve ezberle.

S10. Sayıların, basamak ve sayı değerini yazalım.

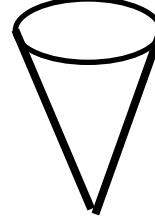
	Sayı değeri	Basamak değeri
584	5 + 8 + 4	500 + 80 + 4
279		
306		
495		
894		

S11. Modelle gösterilen sayıyı rakamla yazalım.



.....

S12. Verilen geometrik şeklin istenen özelliklerini yazıp, açılımını çizelim.




Cismin adı: .....

Yüzey sayısı: .....

Köşe sayısı: .....

Ayrıt sayısı: .....

Şeklin Açılımı



S13.

Dersler	Çözülen sorular
Türkçe	★ ★ ★ ★ ★
Matematik	★ ★ ★ ★
Fen Bil.	★ ★ ★ ★ ★ ★
Hayat Bil.	★ ★ ★

Her şekil 3 soruyu göstermektedir.

Yukarıda verilen şekil grafiğine göre;

a) Toplam kaç soru çözülmüştür?

b) En çok ve en az soru çözülen dersler hangileridir?

c) Bir düzine soru çözülen ders hangisidir?

ç) Fen bilimleri dersinden çözülen sorular, matematik dersinden çözülen sorulardan kaç fazladır?

TÜRKÇE

S1. Verilen sözcüklerden Ünsüz Yumuşamasına uğrayanları boyayalım.

dört	maç	araç
kaynak	uzak	millet
hayat	hukuk	seçenek
varlık	bayrak	Mert

S2. Verilen sözcükleri alfabetik sıraya göre yazalım.  
" Helva - Hırka - Hasta - Hüsrân - Hortum - Hikaye "

- 1..... 4.....  
2..... 5.....  
3..... 6.....

S3. Verilen sözcüklerin hece sayılarını yazalım.

değerlendirme	stadyum
atlıkarınca	organik
istasyon	elektrikli

S4. "Birden huysuzlanan Rüzgar, dörtnala koşmaya başladı." Cümlesine göre;

- a) Cümle kaç sestem oluşur?.....  
b) Cümle kaç heceden oluşur? .....  
c) Cümle kaç sözcükten oluşur?.....  
ç) Cümlede bulunan iki heceli sözcükler hangileridir?

S5. Aşağıda boş bırakılan yerlere alfabetik sıraya uygun bir şekilde harfleri yazalım.

	K					Ş
			H		M	

S6. Verilen sözcüklerin eş anlamlarını yazalım.

- a) ilave: ç haşere:  
b) tesadüf: d) sayı:  
c) ulusal: e) icat:

FEN BİLİMLERİ

- S1. (hava) (kara) (su) (bitki)

Yukarıda verilenlerden kaç tanesi Dünya'mızı oluşturan katmanlardır?

- a) 2 b) 3 c) 1

S2. Verilen ifadelerden hangisi yanlıştır?

- a) Dünya'nın büyük çoğunluğu karalarla kaplıdır.  
b) Atmosfer, Dünya'yı dıştan saran bir gaz tabakasıdır.  
c) Hava, su ve kara tabakaları birbiriyle temas halinde bulunur.

S3. Eski çağlarda Dünya'mızın şeklini kapaklı bir kutu gibi düşünen medeniyet aşağıdakilerden hangisidir?

- a) Mısırlılar b) Hintliler c) Romalılar

S4. Aşağıdakilerden hangisi Dünya'mızın iç katmanlarından biri değildir?

- a) manto b) atmosfer c) çekirdek

S5. Verilenlerden hangisi Dünya'mız üzerinde bulunan büyük su kütlelerinden biri değildir?

- a) Atlas Okyanusu b) Büyük Okyanus  
c) Okyanusya

S6. Verilen ifadelerden hangisi doğrudur?

- a) Buzullar, kara katmanının bir parçasıdır.  
b) Su , sadece insanlar için hayat kaynağıdır.  
c) Toprak ve su katmanında da hava vardır.

S7. " Eğer Dünya, küre şeklinde olmasaydı....." Yukarıdaki ifadede noktalı yeri hangi seçenek ile tamamlayamayız?

- a) Uzaydan fotoğraflarını çekemezdik.  
b) Uzaktan gelen geminin tamamını görebilirdik.  
c) Güneş birden doğar ve birden de batardı.

S8. Güneş'ten gelen zararlı ışınları etkileyen tabaka aşağıdakilerden hangisidir?

- a) Ozon Tabakası  
b) Oksijen Tabakası  
c) Karboksidioksit Tabakası

S9. Aşağıdaki ifadelerden hangisi doğrudur?

- a) Kristof Kolomb, Dünya'nın küre şeklinde olduğunu ilk ortaya atan kişidir.  
b) Dünya'nın yarısından fazla kısmını kara tabakası oluşturur.  
c) Hava tabakasını gözümüzle göremeyiz, ancak varlığını hissederiz.