

## MATEMATİK

S1. Verilen işlemleri yapalım.

$$\begin{array}{r} 243 \\ + 176 \\ \hline \end{array}$$

$$\begin{array}{r} 851 \\ - 294 \\ \hline \end{array}$$

$$\begin{array}{r} 91 \\ \times 6 \\ \hline \end{array}$$

$$\begin{array}{r} 573 \\ \hline \end{array}$$

S2. Verilen sayının okunuşunu yazalım.

507 : .....

S3. Okunuşu verilen sayıyı rakamla yazalım.

üç yüz altmış : .....

S4. Tablodaki çift olan sayıları mavi renkte boyayalım.

478	213	600	375
824	516	459	792

S5. Verilen sayıları büyükten küçüğe doğru sıralayalım.

" 402 - 390 - 175 - 532 - 276 - 800 "

.....&gt;.....&gt;.....&gt;.....&gt;.....&gt;.....

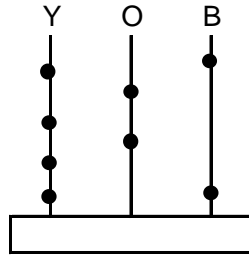
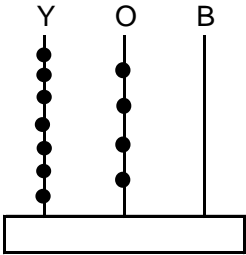
S6. Çözümlemiş olarak verilen sayıları yazalım.

a)  $4 \times 100 + 3 \times 10 + 9 \times 1$  : .....

b) 5 yüzlük + 5 onluk + 5 birlik : .....

c)  $8 \times 100 + 6 \times 10 + 4 \times 1$  : .....

S6. Abaküste gösterilen sayıyı yazalım.



S7. Aşağıda verilen üç basamaklı sayıları yazalım.

Onlar B : 0

Birler B : 7

Yüzler B : 4

Yüzler B : 5

Birler B : 1

Onlar B : 6

S8. Verilen sayıları aralarına &lt; , &gt; , = işareti koyarak karşılaştıralım.

 210 .....  326  743 .....  375

S9. 7'şer 70' e kadar yaz ve ezberle.

S10. Sayıların, basamak ve sayı değerini yazalım.

	Sayı değeri	Basamak değeri
318		
501		

S11. Verilen sayıları çözümlyerek yazalım.

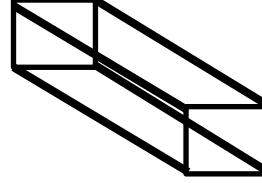
a) 293 : .....

b) 748 : .....

c) 304 : .....

S12. Aşağıdaki sayıyı sayı blokları modeli çizerek gösterelim.  243

S12. Verilen geometrik şeklin istenen özelliklerini yazıp, açılımını çizelim.




Cismin adı: .....

Yüzey sayısı: .....

Köşe sayısı: .....

Ayrıt sayısı: .....

Şeklin Açılımı



S13. Bir basamaklı çift sayıların toplamı kaçtır?

S14. Boş bırakılan yerlere, uygun sayıları yazalım.

a) Üç basamaklı en büyük sayı : b) Üç basamaklı en küçük tek sayı : c) Yüzler basamağı 4 olan en büyük çift sayı: ç) Rakamları birbirinden farklı en büyük üç basamaklı sayı : d) Rakamları birbirinden farklı üç basamaklı en küçük tek sayı : e) 5 yüzlükten küçük, en büyük çift sayı :

TÜRKÇE

S1. Verilen tabloyu doğru şekilde dolduralım.

Sözcükler	İnce Ünlüler	Kalın Ünlüler	Ünsüzler
Yukarıdaki			
İnsanların			
Muhallebi			
Yaşanabilir			

S2. Verilen sözcükleri alfabetik sıraya göre yazalım.

" Çikolata - Çözüm - Çıkıntı - Çukur - Çamaşır - Çetele "

- 1..... 4.....  
2..... 5.....  
3..... 6.....

S3. Karışık olarak verilen sözcüklerle anlamlı ve kuralı bir cümle yazınız.

" etrafında - çocuk - küçük - baloncunun - dolaşıyordu."

S4. Bu sabah ormanda gezdik annemle,  
Ağaçların arasında yürüdük el ele,  
Annem dedi ki, dallar ağaçların kollarıdır,  
İnsanlar gibi tüm canlıları korumalıdır.  
Çiçeklerin rengi benziyor şekerlere,  
Toprak yuva oluyormuş minicik böceklere.  
Bitkiler olmasa, insanlar aç kalırmış,  
Peki o zaman büyük ormanlar neden yakılmış?

Yukarıdaki şiire göre, aşağıdaki soruları cevaplayalım.

- a) Şiir kaç dizeden oluşuyor?.....  
b) Yedinci mısra kaç hecedir?.....  
c) İlk mısra kaç sözcükten oluşur?.....  
ç) Altıncı mısra kaç sestene oluşur?.....  
d) Şiirde, ağaç dalları neye benzetiliyor?  
e) Çiçeklerin renkleri neye benzetiliyor?

S5. Verilen sözcüklerin zıt anlamlarını yazalım.

- a) cahil : ç) alım :  
b) yatay : d) küt :  
c) cimri : e) günah :

FEN BİLİMLERİ

S1. Burunla ilgili verilen bilgilerden hangisi yanlıştır?

- a) Koku alma organıdır.  
b) Renkleri daha kolay algılamamızı sağlar.  
c) Tat almaya yardımcı bir duyumuzdur.

S2. "Görme engelliler kitap okuyabilmek için pürüzlü noktalardan oluşan bir alfabe kullanırlar. Görme engelliler bu alfabeyle.....duyusunu kullanarak okurlar."

Yukarıdaki cümlede noktalı yere aşağıdakilerden hangisi yazılmalıdır?

- a) tat alma b) dokunma c) koklama

S3. Verilenlerden hangisi göz sağlığımızı korur?

- a) Güneş'e veya ışık kaynaklarına çıplak gözle bakmak.  
b) Gözleri sık sık ovuşturmak.  
c) Başkasına ait gözlükleri takmamak.

S4. Aşağıdaki eşleştirmelerden hangisi yanlıştır?

- a) Deri - tat alma  
b) Kulak - işitme  
c) Burun-Koklama

S5. Televizyon izleyen biri aşağıdaki duyarlarından hangisini kullanmaz?

- a) Dokunma b) İşitme c) Görme

S6. Yeni alacağım kazağın rengine karar vermek için hangi duyum kullanmam gerekir?

- a) Dokunma b) Görme c) İşitme

S7. Verilen ifadelerin hangisinde farklı bir duyu kullanılmaktadır?

- a) Yemek yiyen Alisa.  
b) Televizyon seyreden Fuat.  
c) Teleskopla gökyüzüne bakan Faruk.

S8. ▲ Çeşitli gazların karışımından oluşur.

◆ Bitkilerin kökleriyle bağlı olduğu yerdir.

Yukarıdaki verilen bilgiler Dünya'nın hangi katmanlarını anlatmaktadır?

- a) ▲ Kara Tabakası ◆ Su tabakası  
b) Hava tabakası Kara tabakası  
c) Su tabakası Hava tabakası

S9. Dünya modelini incelediğimizde, aşağıdaki bilgilerden hangisine ulaşamayız?

- a) Su tabakası, kara tabakasından daha çok yer kaplar.  
b) Kara tabakası beyaz ve mavi renkte gösterilir.  
c) Dünya'mızın şekli küreye benzemektedir.