

MATEMATİK

S1. Verilen işlemleri yapalım.

$$\begin{array}{r} 326 \\ + 378 \\ \hline \end{array}$$

$$\begin{array}{r} 635 \\ - 297 \\ \hline \end{array}$$

$$\begin{array}{r} 78 \\ \times 3 \\ \hline \end{array}$$

$$\begin{array}{r} 85 \\ \hline 5 \end{array}$$

S2. Verilen sayılardan "tek sayı" olanları tek sayılar kutusuna, "çift sayı" olanları çift sayılar kutusuna yazalım.

93	461	179	8	43	62
200	516	54	37	124	17

Tek Sayılar Kutusu

Çift Sayılar Kutusu

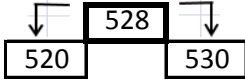
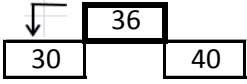
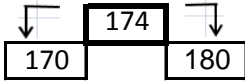
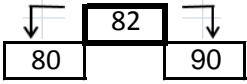
S3. Çözümlemiş olarak verilen sayıyı rakamla yazalım.

a) $1 \times 100 + 5 \times 1 + 3 \times 10$:.....

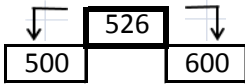
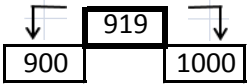
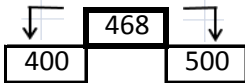
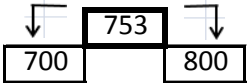
S4. Okunuşu verilen sayıyı rakamla yazalım.

a) Altı yüz seksen üç :.....

S5. Üstteki sayının en yakın olduğu onluğu boyayalım.



S6. Üstteki sayının en yakın olduğu yüzlüğü boyayalım.



S7. Üstteki sayıları birer kez kullanarak yazılabilecek üç basamaklı en büyük ve en küçük sayıları yazalım.

9 - 4 - 0 - 2			5 - 1 - 3 - 7		
En		En	En		En
Büyük		Küçük	Büyük		Küçük

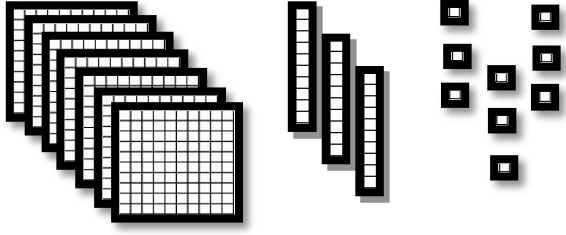
S8. Verilen sayıları aralarına $<$, $>$, $=$ işareti koyarak karşılaştıralım.

120	120	476	319
-----	-------	-----	-------	-----	-------	-----

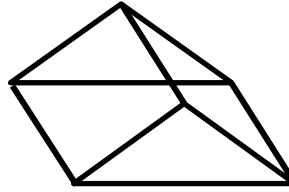
S9. Basamak değerleri verilen sayıları, yazalım.

$40 + 3 + 500$	
$300 + 20 + 8$	
$10 + 700$	
$6 + 200 + 20$	

S10. Onluk bloklarla gösterilen sayıyı yazalım.



S11. Verilen geometrik şeklin istenen özelliklerini yazıp, açılımını çizelim.




Cismin adı:.....

Yüzey sayısı:.....

Köşe sayısı:.....

Ayrıt sayısı:.....

Şeklin Açılımı



S12. "845" sayısının, onlar basamağında bulunan rakamın, basamak değerinin 7 onluk fazlası kaçtır?

S13. $246 < \square$ karşılaştırmasında \square yerine yazılabilecek en küçük sayının, sayı değeri toplamı kaç olur?

S14. Birler basamağında 4 olan, rakamları birbirinden farklı, üç basamaklı, en küçük sayının, 12 onluk fazlası kaçtır?

Y. O. B.

S15. 9' ar , 90'a kadar yazıp ezberleyelim.

TÜRKÇE

S1. Başta verilen sözcüğün eş anlamlısını boyayalım.

- a) muhacir → göçmen kalabalık mahalle
- b) emniyet → trafik hırsız güvenlik
- c) sulh → savaş barış cephe
- ç) izah → konu ödev açıklama
- d) kabahat → ödül suç kaçış
- e) şuur → akıl utangaç örnek

S2. Ünsüz yumuşaması görülen sözcükleri işaretleyelim.

gözlük		hayat	
kart		saat	
Ferhat		köpek	
fıstık		soğuk	
çiftlik		şiddet	

S3. Onu ilk gördüğümde oldukça çirkin gelmişti gözüme. Küçük bir et yumağı gibiydi. Henüz birkaç haftalık. Biraz büyüyüp palazlanınca bizim olacaktı. Şimdi annesine ihtiyacı vardı. Babası ve annesi, inanılmaz güzellikte mavi tüylere sahipti. Ondan önceki yavru ise müthiş bir eflatun renginde idi...

Meraklanıyorduk. Acaba bizim muhabbet kuşumuz ne renk olacaktı?

Hemen kafeslerin en güzeli, yemlerin en kalitelisi bulundu, alındı.

Aşağıda verilen soruları metne göre cevaplayalım.

a) Muhabbet kuşunun anne ve babası hangi renktedir?

b) Yazar muhabbet kuşunu ilk gördüğünde onu neye benzetmiş?

c) " Biraz büyüyüp palazlanınca bizim olacaktı. " cümlesi kaç sözcükten oluşur?

ç) "Onu ilk gördüğümde oldukça çirkin gelmişti gözüme." cümlesi kaç heceden oluşur?

d) "Şimdi annesine ihtiyacı vardı." cümlesi kaç harften oluşur?

S4. Aşağıda karışık olarak verilen sözcüklerle anlamlı ve kurallı bir cümle yazalım.

" bilir - çok - okuyan mı - gezen mi - çok "

FEN BİLİMLERİ

S1. " Soner, parktaki kırmızı güllere baktı. Onları koklarken çok güzel olduklarını düşündü. O sırada arkadaşı Orhan'ın sesini duydu. Onu oyuna çağırıyordu."




Yukarıdaki anlatımda Soner, sırasıyla hangi duyu organlarını kullanmıştır?

- a) göz - burun - kulak
b) dil - burun - göz
c) göz - kulak - burun

S2. Sınıfta kaloriferin yanıp yanmadığını anlamak için hangi duyu organımızı kullanmamız gerekir?

- a) koklama b) dokunma c) görme

S3. Aşağıdakilerden hangisi duyu organı değildir?

- a)  b)  c) 




S4. " İki pencere var, etrafı etten duvar. Sabahları açarım, etrafa bakarım. Renkleri, nesnelere onunla bilirim. "

Yukarıdaki bilmecenin cevabı hangisidir?

- a) Burun b) Kulak c) Göz

S5. "Güzel bir yaz sabahı erkenden uyandım. Hava çok sıcaktı. Mis gibi kokan kırmızı güllerin arasında bir süre dolaştıktan sonra eve döndüm. "

Yukarıdaki paragrafta hangi duyu organı kullanılmamıştır?


- a)  b)  c) 

S6.

1.



3.



2.



4.



Yukarıdaki görsellerden yararlanarak kıydan uzaklaşan bir geminin görüntüsü, nasıl sıralanabilir?

- a) 4 - 1 - 3 - 2 b) 2 - 1 - 4 - 3 c) 3 - 1 - 4 - 2

S7. Dünya'mızla ilgili bilgilerden hangisi yanlıştır?

- a) Dünya'mızı saran hava tabakası belirli bir yüksekliğe kadardır.
b) Yüzeyinde hava, su ve kara tabakası bulunur.
c) Karalar, denizlerden daha fazla yer kaplamaktadır.