

TEKRAR ÇALIŞMA KAĞIDI 27

MATEMATİK

S1. Verilen işlemleri yapalım.

$$\begin{array}{r} 396 \\ + 228 \\ \hline \end{array}$$

$$\begin{array}{r} 726 \\ - 518 \\ \hline \end{array}$$

$$\begin{array}{r} 206 \\ \times 5 \\ \hline \end{array}$$

$$\begin{array}{r} 82 \overline{) 3} \\ \hline \end{array}$$

S2. Üstteki sayının en yakın olduğu onluğu yazalım.

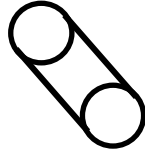
34	126	683	547
↓	↓	↓	↓
<input type="text"/>	<input type="text"/>	<input type="text"/>	<input type="text"/>

S3. Romen Rakamı ile verilen işlemleri yapalım. Sonuçlarını doğal sayılarla yazalım.

- a) VII x V = 35 c) IX - VI =
- b) XI + XIV = ç) XXII + VIII =

S4. Aşağıdaki özelliklerden hangileri, yanda verilen geometrik cisme aittir? İşaretleyelim.

- Beş yüzeyim var.
- Köşem veya ayrıtım yok.
- İki tane dairesel yüzeyim var.
- Üç tane dikdörtgen yüzeyden oluşurum.
- Yüzeylerimden bir tanesi dikdörtgensel bölgedir.



S5. Aşağıda Romen Rakamı ile verilen sayıları büyükten küçüğe doğru sembol kullanarak sıralayalım.

VII - X - IX - III - XV - V

S6. Üstteki sayıları birer kez kullanarak yazılabilecek üç basamaklı en büyük ve en küçük sayıları yazalım.

8 - 0 - 2		6 - 4 - 3	
<input type="text"/>	<input type="text"/>	<input type="text"/>	<input type="text"/>
En Büyük	En Küçük	En Büyük	En Küçük

S7. Okunuşu verilen sayıları rakamla yazalım.

- a) Üç yüz on : c) Yüz yetmiş dört :
- b) Dokuz yüz : ç) Dört yüz kırk :

S8. Çözömlenmiş olarak verilen sayıları yazalım.

- a) 5 yüzlük + 5 birlik + 8 onluk :
- b) 8 onluk + 2 yüzlük :
- c) 6 onluk + 1 yüzlük + 1 birlik :

S9. Verilen sayıları aralarına <, >, = sembolü yazarak karşılaştıralım.

250 190 325 346

S10- Kuşlar	Sayıları
serçe	III III III
güvercin	III III II
kırlangıç	III IIII
kartal	III III III III IIII

Yukarıda verilen çetele tablosunu, şekil grafiği olarak yeniden yazalım.

Kuşlar	Sayıları
serçe	
güvercin	
kırlangıç	
kartal	

Not: Her şekil 3 kuşu göstermektedir.

S11. Aşağıda verilen sayılardan "Çift sayı" olanların farkı kaçtır?

384 265 703 502

S12. Aşağıda modellerle verilen sayıların toplamı kaç olur?

TÜRKÇE

S1. Aşağıda oluş sırası karışık olarak verilen metni oluş sırasına göre numaralandırınız.

- Hemen pencereyi açtım ve onu içeri aldım.
 Zavalılık nasıl da üşümüş.
 Biri sanki cama taş atıyordu.
 Tam yatağa giriyordum ki pencereden tık tık diye ses geldi.
 O gün bu gündür de onu hiç yanımdan ayırmadım.
 Merakla ve biraz da korkuyla pencereye doğru yaklaştım.
 Herkese iyi geceler dileyip odama geldim.
 Ne göreyim, küçükük bir serçe bana bakıyor.

S2. Yazılışı yanlış verilen sözcüklerin doğrusunu yazalım.

a) üçken ç) klavuz

b) pirizma d) antreman

c) fotoraf e) sovkuk

S3. Dondurucu, kavurucu bir soğuk vardı. Yoldan geçenler paltolarının yakasını kaldırmışlar, atkılarına bürünmüşler, hızlı hızlı yürüyorlardı.

Çocuklar koşuyorlar, birbirlerine kartopu atıyorlardı. Gecenin zevkini en çok onlar çıkarıyorlardı. Kahkahalarla gülüyorlar, sevinçle haykırıyorlardı.

Yalnız bir çocuk vardı ki gelip geçenler onun farkında değillerdi. Ufak bir kız çocuğu. Başı açık, elbisesi yama içinde, yoksul bir kızcağız. Bir kapının önüne büzülmüş, çıplak ayaklarını altına almıştı.

.....

Aşağıdaki soruları verilen metne göre cevaplayalım.

a) Anlatılan metin hangi mevsimde yaşanmıştır?

b) Gelip geçenlerin farkında olmadığı kimdi?

c) "Çocuklar koşuyorlar, birbirlerine kartopu atıyorlardı." cümlesi kaç hecedir?

S4. Ünlü ile biten bir sözcüğe, ünlü ile başlayan bir ek getirildiğinde, iki ünlü ses arasına y-n-ş-s kaynaştırma harfleri getirilir.

Aşağıdaki sözcüklere kaynaştırma harflerini ekleyerek yeniden yazalım.

cümle	i	→	<input type="text"/>
vazo	a	→	<input type="text"/>
sarı	ı	→	<input type="text"/>
Dilara	a	→	<input type="text"/>

FEN BİLİMLERİ

- S1.** Dünya'nın yuvarlak olduğunu söyleyen ilk kişidir.
 Amerika'yı keşfeden kişidir.
 Macellan
 Kristof Kolomb
 Pisagor

Yukarıdaki ifadelerin yan tarafta verilen kişilerle eşleştirilmesi hangi seçenekte doğru olarak verilmiştir?

- a) → b) → c) →




S2. Aşağıdaki ifadelerden hangisi yanlıştır?

- a) Su tabakası sadece denizde yaşayan canlılar için önemlidir.
b) Göller, denizler, yer altı suları ve okyanuslar su tabakasını oluşturur.
c) Dünya'mızın kara tabakası taş, toprak ve kayalardan oluşur.

S3. Ankara'dan , İstanbul'a daha kısa sürede gitmek isteyen birisi, hangi aracı tercih etmelidir?

- a) Tren b) Uçak c) Otomobil

S4. Aşağıdaki görsellerden hangisinde farklı bir hareket söz konusudur?

- a)  b) 
c) 

S5. Aşağıdakilerden hangisi hareketli bir cisimdir?

- a) Oyun oynayan çocuklar
b) Güneş
c) Park etmiş otomobil

S6. Aşağıdaki eşleştirmelerden hangisi yanlıştır?

- a) Dil : Yediğimiz besinlerin sindirilmesini sağlar.
b) Burun : Koku almamızı sağlar.
c) Deri : Varlıkların sertliğini veya yumuşaklığını anlarız.

S7. Televizyonu yakından izleyen birisi en çok hangi duyu organına zarar vermiş olur?

- a)  b)  c) 