

TEKRAR ÇALIŞMA KAĞIDI 3

MATEMATİK

S1. Verilen işlemleri yapalım.


$$\begin{array}{r} 4 \ 5 \ 7 \\ + 3 \ 6 \ 9 \\ \hline \end{array}$$

$$\begin{array}{r} 7 \ 3 \ 1 \\ - 2 \ 8 \ 8 \\ \hline \end{array}$$

$$\begin{array}{r} 9 \ 3 \\ \times 5 \\ \hline \end{array}$$

$$\begin{array}{r} 6 \ 8 \ 3 \\ \hline \end{array}$$

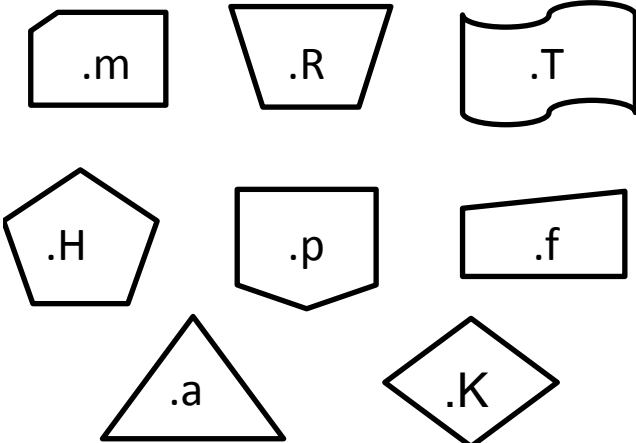
S2. Bahçemizde 7 elma, 10 şeftali, 4 kayısı, 8 dut ağacı vardır. Buna göre, verilen bilgileri çetele ve sıklık tablosu ile gösterelim.



S3. Ritmik sayılarda eksik olan sayıları yazalım.

- a)
- b)
- c)
- ç)

S4. Aşağıda yanlış isimlendirilen noktaları kırmızıya, doğru isimlendirilen noktaları maviye boyayalım.



TÜRKÇE

S1. Verilen sözcükleri alfabetik sıraya koyarak yeniden yazalım.

" nar - mandalina - armut - portakal - elma - çilek "

S2. Verilen sözcüklerin hangilerinde ince ve kalın ünlüler birlikte yer alır?

" grafik - yazıcı - kantar - külah - fayton - hikaye "

S3. " Kaplumbağamın adını Şımarık koyduk. " cümlesine göre;

- a) Cümle kaç sestene oluşur?.....
b) Cümle kaç heceden oluşur?.....
c) Cümle kaç sözcükten oluşur?.....

S4. Verilen sözcüklerin eş anlamlarını yazalım.

- a) imtihan: c) ihtiyar:
b) nazik : d) okul :
c) harf : e) berk :

FEN BİLİMLERİ

S1. Hangi bilim adamı Dünya'nın küre şekline benzediğini **ilk olarak** ortaya atmıştır?

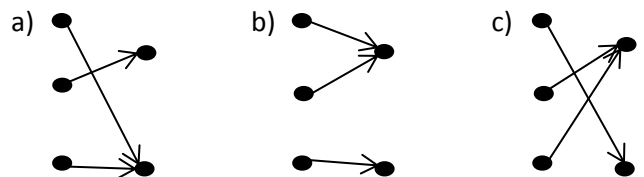
- a) Macellan b) Biruni c) Pisagor

S2. Hangisi Dünya'nın küre şeklinde olduğunu kanıtı **değildir**?

- a) Hep aynı yönde giden kaptanın başladığı noktaya geri dönmesi.
b) Karaya doğru yaklaşmakta olan geminin önce yelkeninin görünmesi.
c) Dünya'nın, Güneş etrafında dönmesi.

- S3. Pisagor Dünya'nın tepsi biçiminde olduğunu ortaya atmıştır.
 Tales Dünya'nın küre şeklinde olduğunu ortaya atmıştır.
 Macellan

Yukarıdaki bilim insanları ile görüşleri eşleştirilmesi aşağıdakilerden hangisidir?



S4. Dünya'nın merkezindeki katman hangisidir?

- a) Manto b) çekirdek c) atmosfer