

## MATEMATİK

S1. Verilen işlemleri yapalım.

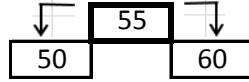
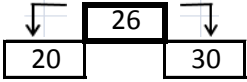
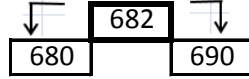
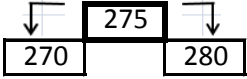
$$\begin{array}{r} 5 & 5 & 5 \\ + & 2 & 8 & 3 \\ \hline \end{array}$$

$$\begin{array}{r} 7 & 5 & 2 \\ - & 5 & 6 & 4 \\ \hline \end{array}$$

$$\begin{array}{r} 1 & 4 \\ \times & 7 \\ \hline \end{array}$$

$$\begin{array}{r} 6 & 6 & 8 \\ \hline \end{array}$$

S2. Üstteki sayının en yakın olduğu onluğu boyyalım.



S3. Verilen sayıların rakamları toplamı ( sayı değeri toplamı ) kaçtır?

a)  $875 : 8 + 7 + 5 = 20$

c)  $496 : \dots\dots\dots$

b)  $543 : \dots\dots\dots$

ç)  $908 : \dots\dots\dots$

S4. Basamak değeri verilen sayıları, rakamla yazalım.

a)  $500 + 40 + 5 = \boxed{545}$

b)  $400 + 70 + 7 = \boxed{\phantom{000}}$

c)  $80 + 700 + 9 = \boxed{\phantom{000}}$

S5. Verilen sayıları Romen Rakamı ile yazalım.

a) 12 :                      c) 17 :                      d) 9 :

b) 5 :                        ç) 14 :                      e) 20 :

S6. Romen Rakamı ile verilen sayıları yazalım.

a) XXII :                      c) VI :                        d) VII :

b) XXXV :                      ç) XII :                      e) XIX :

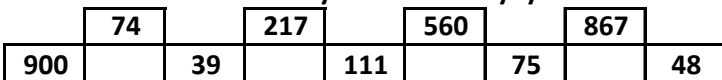
S7. Verilen sayıları çözümlenerek yazalım.

a) 815 : 8 yüzlük + 1 onluk + 5 birlik

b) 350 : .....

c) 841 : .....

S8. Verilenlerden " tek sayı " olanları boyyalım.



S9.

En sevilen Dersler	Öğrenci sayısı
Matematik	● ● ●
Fen Bilimleri	● ● ● ● ● ●
Türkçe	● ● ● ● ●
Oyun ve Fzk. Et.	● ● ● ● ● ● ● ●

Her şekil 5 öğrenciyi göstermektedir.

Yukarıda verilen şekil grafiğine göre, aşağıdaki soruları cevaplayalım.

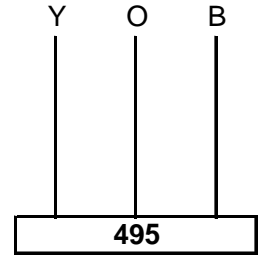
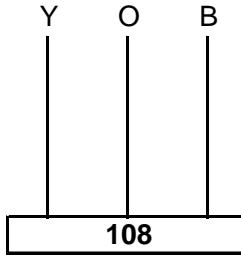
a) Grafiği oluşturan toplam öğrenci sayısı kaçtır?

b) En çok ve en az sevilen dersler hangileridir?

c) Fen bilimleri dersini seven öğrencilerin 3 düzine olması için kaç öğrenci daha gereklidir?

ç) Matematik dersini seven kaç öğrenci daha olursa, Oyun ve Fiziki Etkinlik dersi ile eşit sayıya ulaşır?

S10. Aşağıda verilen sayıları abaküste gösterelim.



S11. Verilen örüntüleri üç adım ilerletelim.

a)  $76 - 71 - 67 - 62 - \boxed{\phantom{00}} - \boxed{\phantom{00}} - \boxed{\phantom{00}}$

b)  $44 - 51 - 60 - 67 - \boxed{\phantom{00}} - \boxed{\phantom{00}} - \boxed{\phantom{00}}$

S12. Aşağıda verilen sayılardan, yüzler basamağının değeri 300 olan sayının, XIII onluk fazlası kaçtır?

836

563

388

233

S13.  $V + XIV = ?$  işleminin sonucu III onluktan kaç eksiktir?

TÜRKÇE

S1. Başta verilen sözcüğün eş anlamlısını boyayalım.

a) yüzyıl	→	gün	asır	yıl
b) rutubet	→	nem	kar	mevsim
c) idadi	→	lise	ilkokul	ortaokul
ç) adet	→	kutu	adalet	tane
d) dam	→	çatı	duvar	bina
e) kıyı	→	şekil	kenar	yurt

S2. "Düşünceler" kelimesini satır sonuna sığmadığında nasıl yazılır? Boş bırakılan yere yazalım.

--	--	--

S3. Mavi benekli sardalya, çok meraklı bir balık yavrusuydu. Her şeyi öğrenmek istiyordu. Onu diğerlerinden ayıran fazla merakı, öğrenme tutkusunu ve pullarının koyu maviye çalan rengiydi. Mayıs ayı başlarında Akdeniz'den gelecek olan sardalyaları pek merak ediyordu. Acaba ne gibi değişik yanları vardı. Ayrıca tuzlu, sıcak Akdeniz'i, Ege kıyılarını, adaları ve denizlerin bütün özelliklerini görebekle gelecekle.

Aşağıdaki soruları verilen metne göre cevaplayalım.

- a) Sardalyalar Akdeniz'den ne zaman gelirlermiş?
- b) Metinde bahsedilen sardalyanın pulları hangi renge sahiptir?
- c) Metinde geçen sözcüklerin hangileri "Büyük Ünlü Uyumu" kuralına uymaz? Yazalım.

S4. Ünlü ile biten bir sözcüğe, ünlü ile başlayan bir ek getirildiğinde iki ses arasında y-n-s-ş harfleri kaynaştırma harfleri konularak yazılır.

Aşağıdaki sözcüklere kaynaştırma harfi ekleyerek yeniden yazalım.

sardalya	a	→	
kıyı	a	→	
fazla	ı	→	
yavru	u	→	

FEN BİLİMLERİ

S1. Vücudumuzu tamamen kaplayan, en büyük duyu organımız....." cümlesinde noktalı yere aşağıdakilerden hangisi yazılmalıdır?

- a) Deri                      b) Kulak                      c) Göz

- S2. ♥ Nefes almaya yarar.  
★ Koku almaya yarar.  
▲ İşitmeye yarar.

Yukarıdaki verilerden hangisi burun ile ilgili değildir?

- a) ♥                      b) ★                      c) ▲

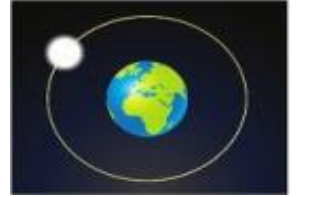
S3. Aşağıdakilerden hangisi hareket çeşidi değildir?

- a) dönme                      b) durma                      c) hızlanma

S4. Çocuğunu bacaklarına yatırarak uyutmak isteyen bir anne hangi hareketi yapar?

- a) dönme                      b) hızlanma                      c) sallanma

S5. Yandaki resimde, Ay'ın Dünya etrafındaki hareketi verilmiştir. Buna göre, anlatılmak istenen hareket aşağıdakilerden hangisidir?



- a) dönme                      b) hızlanma                      c) sallanma

S6. "Okuldan eve gelen Haktan, kapıyı kapattı. Ayakkabılarını yerleştirdi. Dolabın kapısını kapattı."

Buna göre, Haktan'ın hareketleri hangi seçenekte verilmiştir?

- a) çekme - itme  
b) dönme - itme  
c) sallanma - çekme

S7. Aşağıdakilerden hangisinde kuvvet şekil değişikliğine sebep olmaz?

- a) hamur yoğurmak  
b) sırayı çekmek  
c) camı kırmak

S8. Dünya modeli üzerine yerleştirilen harflerle ilgili verilen bilgilerden hangileri doğrudur?



- ▲ A bölgesi kara tabakasıdır.  
▲ B bölgesi su tabakasıdır.  
◆ Kapladıkları yer bakımından A>B 'dir.

- a) ▲ ve ▲                      b) ▲ ve ◆                      c) ▲ ve ◆