

TEKRAR ÇALIŞMA KAĞIDI 6

MATEMATİK

S1. Verilen işlemleri yapalım.

$$\begin{array}{r} 136 \\ + 557 \\ \hline \end{array}$$


$$\begin{array}{r} 641 \\ - 293 \\ \hline \end{array}$$

$$\begin{array}{r} 26 \\ \times 8 \\ \hline \end{array}$$

$$\begin{array}{r} 93 \\ \overline{) 5} \\ \hline \end{array}$$

S2. Bir bahçede bulunan çiçeklerden 8'i gül, 10'u lale, 2'si zambak, 6'sı menekşedir .

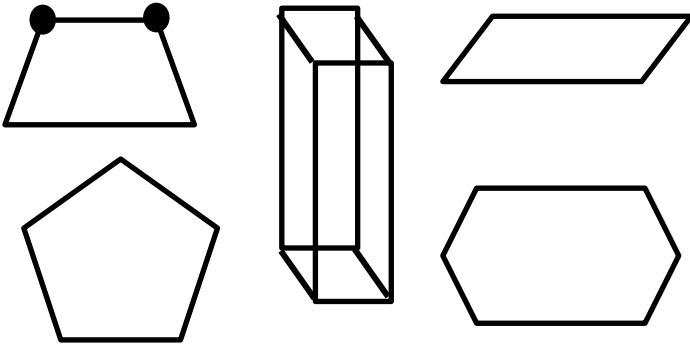
Buna göre, verilen bilgileri şekil grafiği ile gösterelim.



S3. Ritmik saymada eksik olan sayıları yazalım.



S4. Verilen geometrik şekiller üzerinde "nokta" ile gösterilen yerleri örnekteki gibi kırmızı kalemle işaretle.



S5. Aşağıdaki verilen düzlem ile düzlemsel şekilleri bir-biri ile eşleştirelim. (düzlemsel şekil=düzlem parçası)

tangram	tablo	dolap	bayrak
resimler	dolap kapakları	tangram parçası	ay yıldız

TÜRKÇE

S1. Verilen seslerden bir sonra geleni yazarak gizli sözcüğü bulalım.

Ş	Z	Ğ	Ş	Z

İ	Ö

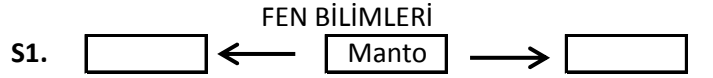
F	D	Y	D	F	D	M

S2. "Bu gece sanki yıldızlar bir yerlere saklanmıştı. " cümlesine göre;

- a) Cümle kaç sestten oluşur?.....  
 b) Cümle kaç heceden oluşur?.....  
 c) Cümle kaç sözcükten oluşur?.....

S3. Verilen sözcüklerin zıt anlamlarını yazalım.

- a) çığ : ç) ham :  
 b) sınırlı : d) ihtiyar :  
 c) bozuk : e) kış :



Yukarıda verilen katmandan bir önce ve bir sonra gelen katmanlar hangileridir?

- a) İç çekirdek b) yer kabuğu c) hava küre  
 dış çekirdek dış çekirdek su küre

S2. Dünya'mızın gözlenebilen katmanları hangi seçenekte verilmiştir?

- a) Hava katmanı- su katmanı - kara katmanı  
 b) İç çekirdek - dış çekirdek - manto  
 c) Yer kabuğu - manto - su katmanı

S3. Su katmanı için verilen bilgilerden hangisi yanlıştır?

- a) Karalardan daha az yer kaplar.  
 b) Pek çok balık ve bitkiye ev sahipliği yapar.  
 c) Deniz, göl, yeraltı suları bu katmanı oluşturur.

S4. Dünya'mızı saran gaz katmanının adı nedir?

- a) atmosfer b) küre c) çekirdek

S5. " Yer kabuğunun altına bulunan ve erimiş kayalardan oluşan katmana.....denir."

ifadesinde boş bırakılan yere hangi katman yazılmalıdır?

- a) su küre b) manto c) çekirdek