

MATEMATİK

S1. Verilen işlemleri yapalım.

$$\begin{array}{r} 334 \\ + 397 \\ \hline \end{array}$$

$$\begin{array}{r} 431 \\ - 95 \\ \hline \end{array}$$

$$\begin{array}{r} 18 \\ \times 6 \\ \hline \end{array}$$

$$\begin{array}{r} 62 \\ \overline{) 5} \\ \hline \end{array}$$

S2.

Sporcular	sayısı
güreş	7
basketbol	12
futbol	18
karate	8
yüzme	10

Yukarıda verilen sıklık tablosuna göre, aşağıdaki soruları cevaplayalım.

a) Sporcu kafilesinde toplam kaç sporcu yer alır?

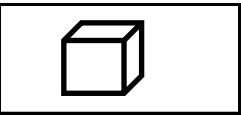
b) En çok sporcu ile katıldığımız branş ile en az sporcu ile katıldığımız branşlar hangileridir?

c) 1 deste ve 1 düzine olarak katıldığımız spor branşları hangileridir?

ç) Turnuvalara 70 sporcu ile katılabilmemiz için daha kaç sporcu daha gerekir?

S3. 7'şer 70' e kadar yaz ve ezberle.

S4. Geometrik şekillerin istenen özelliklerini yazalım.

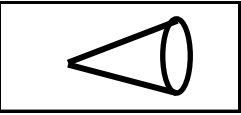


Şeklin Adı:.....

Ayrıt sayısı:.....

Köşe sayısı:.....

Yüzey sayısı:.....




Şeklin Adı:.....

Ayrıt sayısı:.....

Köşe sayısı:.....

Yüzey sayısı:.....

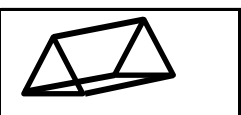


Şeklin Adı:.....

Ayrıt sayısı:.....

Köşe sayısı:.....

Yüzey sayısı:.....



Şeklin Adı:.....

Ayrıt sayısı:.....

Köşe sayısı:.....

Yüzey sayısı:.....

TÜRKÇE

S1. Verilen sözcüklerin hangilerinde Ünsüz Yumuşaması görülür? Boyayarak gösterelim. (p-ç-t-k)

kitap	spor	sincap	ağaç
harf	yoğurt	okul	ekran
sözcük	defter	yaprak	yalnız
renk	tatil	kömür	ünsüz

S2. "Dolaptan eski eşyaları çabucak çıkardı. "

cümlesinin hangi sözcüğünde ince kalın ünlüler birlikte yer alır?

S3. Verilen sözcüklerin eş anlamlarını yazalım.

a) lezzet :

ç) ezgi :

b) anımsamak :

d) kundura :

c) tane :

e) harp :

FEN BİLİMLERİ

S1. Dünya'nın şekli ile ilgili Pisagor ve Thales aynı görüşleri savunmuştur.

Uzaydan çekilen fotoğraflar Dünya'nın Küre şeklinde olduğunu ispat etmektedir.

Kristof Kolomb, Dünya'nın tepsi biçiminde olduğunu savunur.

Yukarıdaki ifadelerden doğru olanların başına "D" yanlış olanların başına "Y" yazılırsa aşağıdakilerden hangi sonuca ulaşılır?

a) D Y DB) Y Y DC) Y D Y

S2. Verilen ifadelerden hangisi doğrudur?

a) Dünya'nın küre şeklinde olduğunu ilk ortaya atan kişi Macellan'dır.

b) Su tabakası Güneşten gelen zararlı ışınları engeller.

c) Dünya'mızın adına , "yerküre " de denilir.

S3. Hangisi olay atmosferde gerçekleşmez?

a) deprem

b) fırtına

c) yağmur

S4. Verilen katmanlardan hangisi Dünya'mızın gözlemlenen katmanlarından biridir?

a) yer kabuğu

b) manto

c) iç çekirdek

S5. Dünya'mızın uzaydan çekilen fotoğraflarında ma-vi bir topa benzemesinin sebebi nedir?

a) Dünya'nın büyük bir kısmının ormanla kaplı olması.

b) Dünya'nın büyük bir kısmının kara ile kaplı olması.

c) Dünya'nın büyük bir kısmının su ile kaplı olması.