

MATEMATİK

S1. Verilen işlemleri yapalım.

$$\begin{array}{r} 265 \\ + 489 \\ \hline \end{array}$$

$$\begin{array}{r} 523 \\ - 187 \\ \hline \end{array}$$

$$\begin{array}{r} 54 \\ \times 7 \\ \hline \end{array}$$

$$\begin{array}{r} 83 \\ \times 6 \\ \hline \end{array}$$

S2.

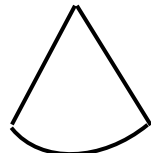

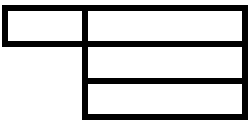
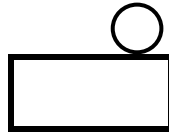
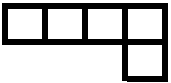
İsim	Doğru cevap sayısı
Deniz	
Hakan	
Fatih	
Öznur	
Yasemin	

Yukarıda verilen çetele tablosuna göre, aşağıdaki soruları cevaplayalım.

- a) Öğrenciler toplamda kaç doğru cevap vermiştir?
- b) En çok ve en az doğru cevap veren öğrencilerin isimleri nelerdir?
- c) Deniz'in doğru cevapları, Öznur'un doğru cevaplarından kaç tane fazladır?
- ç) Fatih, kaç soru daha çözerse, toplamda 20 doğru cevaba ulaşır?

S3. 9'ar 90' a kadar yaz ve ezberle.

S4. Geometrik şekillerin açınımlarındaki eksik parçayı çizerek tamamlayalım.



TÜRKÇE

S1. Verilen sözcüklerin sonuna, sesli harf ekleyerek sessiz harflerin yumuşamasını sağlayalım. (p-ç-t-k)

Sözcükler	Yumuşayan sessiz harfler
sözcük	sözcüğü
umut	
kasap	
dert	
matematik	
yengeç	
dolap	
tuzak	

S2. " kefal - kuvvet - kitabe - koku - kaftan - köfte " sözcüklerini alfabetik sıraya göre yeniden sıralayıp yazalım.

S3. Verilen sözcüklerin eş anlamlarını yazalım.

- a) fert : ç) vilayet :
- b) kalp : d) talih :
- c) deprem : e) dargın :

FEN BİLİMLERİ

S1. Verilen şekle göre hangi bilgi yanlıştır?

- a) Her üç katmanda da canlı yaşamı vardır.
- b) 3. katman olmasa da yaşam devam edebilir.
- c) 1. katman, 2. katmandan daha çok yer kaplar.

S2. Aşağıdakilerden hangisi Dünya'nın katmanlarından biri olamaz?

- a) Hava katmanı b) Kara katmanı c) Uzay katmanı

S3. Çevre kirliliği Dünya'mızın hangi katmanlarını olumsuz olarak etkiler?

- a) Kara katmanı, su katmanı
- b) Kara katmanı, su katmanı, hava katmanı
- c) Hava katmanı, su katmanı

S4. " Atmosfer dışına çıktığımızda nefes alabilmek özel kıyafetlere ihtiyaç duyarız. "

Verilen bilgiye göre, aşağıdakilerden hangisi söylenebilir?

- a) Hava tabakası içinde canlı yaşamına rastlanmaz.
- b) Bütün uzayda oksijen bulunur.
- c) Atmosferde canlı yaşamı için gerekli oksijen vardır.

S5. Hangisi "Kara tabakasını" oluşturmaz?

- a) Kayalar b) Yeraltı suları c) Ormanlar