

MATEMATİK

S1. Verilen işlemleri yapalım.

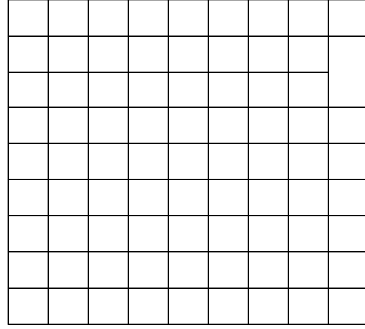
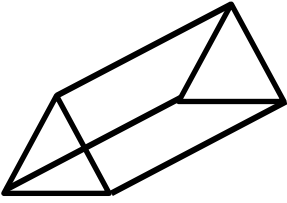
$$\begin{array}{r} 663 \\ + 188 \\ \hline \end{array}$$

$$\begin{array}{r} 501 \\ - 327 \\ \hline \end{array}$$

$$\begin{array}{r} 268 \\ \times 3 \\ \hline \end{array}$$

$$\begin{array}{r} 78 \\ \hline 8 \end{array}$$

S2. Verilen geometrik şeklin açılımı çizelim.



S3. Verilen sayıları büyükten küçüğe doğru sıralayalım.

528 384 702 496

S4. Tabloda eksik bırakılan yerleri tamamlayalım.

Sayı Değeri	Basamak Değeri		
489		80	
	200	10	4
59...	500		7

S5. Verilen sayıları Romen Rakamı ile yazalım.

a) 7 : c) 14 : d) 9 :

b) 2 : ç) 20 : e) 18 :

S6. Verilen eşitsizliklere yazılabilecek en büyük sayılar hangileridir?

a) $465 > \square$ c) $387 > \square$ b) $34 > \square$ ç) $216 > \square$

S7. Verilenlerden " çift sayı " olanları boyayalım.

12	57	165	99	501	600	216	778	343
----	----	-----	----	-----	-----	-----	-----	-----

S8.

Sınıflar	Katılan Öğrenci Sayısı
3 - M	
3-N	
3-O	
3-P	
3-R	

Okulumuzdan geziye katılan sınıf mevcutları.

Yukarıda verilen çetele tablosuna göre, aşağıdaki soruları cevaplayalım.

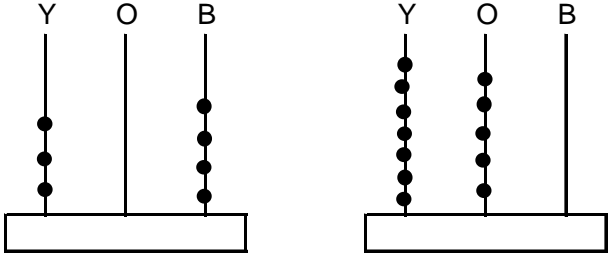
a) Geziye toplam kaç öğrenci katılmıştır?

b) Geziye katılım oranı en çok ve en az olan sınıflar hangileridir?

c) 3- O sınıfından kaç öğrenci daha geziye katılırsa 3-M sınıfı ile sayıları eşit olur?

ç) 3-N sınıfının 20 kişi ile geziye katılabilmesi için daha kaç öğrenciye ihtiyaçları vardır?

S9. Abaküste gösterilen sayıyı yazalım.



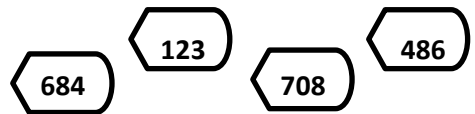
S10. Verilen örüntüleri üç adım ilerletelim.

a) 34 - 38 - 41 - 45 - \square - \square - \square b) 63 - 55 - 57 - 49 - \square - \square - \square c) 18 - 23 - 20 - 25 - \square - \square - \square ç) 71 - 77 - 82 - 88 - \square - \square - \square

S11. Rakamları farklı, üç basamaklı en küçük tek sayının, IV katı kaçtır?

$$\overline{Y} \quad \overline{O} \quad \overline{B}$$

S12.



Yukarıda verilen sayılardan, rakamları (sayı değeri) toplamı eşit olan sayıların farkı kaçtır?

TÜRKÇE

S1. Başta verilen sözcüğün eş anlamlısını boyayalım.

- a) meydan →

kır	alan	kaldırım
-----	------	----------
- b) matem →

yas	sevinç	ders
-----	--------	------
- c) çağlayan →

göl	gökyüzü	şelale
-----	---------	--------
- ç) mektup →

name	zarf	postahane
------	------	-----------
- d) medyum →

falci	yoksul	casus
-------	--------	-------
- e) mermi →

uçak	kurşun	siyah
------	--------	-------

S2. Aşağıda satır sonunda yanlış yazılan sözcüklerin doğrusunu boş bırakılan kısma yazalım.

Mani' - sa	o- laylar

S3. Bütün hazırlıklar tamamlanmıştı. Bayram temizliği yapılmış, baklavalar açılmıştı. Amcamın hanımı yaprak sarmalarını yapmıştı. Bu bayram da diğer bayramlar gibi sabah kahvaltısını dedemlerde yapacak ve ilk önce onlarla bayramlaşacaktık. Neden sadece iki tane dini bayramımız var ki. Hâlbuki ne güzel günler bu günler. İnsanlar birbirine gidip geliyor,uzun zamandır görüşemeyenler görüşebiliyor. Bayram harçlıkları ve hediyelerle çocuklar sevindiriliyor. İnsanlar arasındaki bağlar kuvvetleniyor. Bu yüzden biz de büyüncü bu geleneklerimizi yaşatmalıyız. Bayramlarımıza sahip çıkmalıyız.

Aşağıdaki soruları verilen metne göre cevaplayalım.

a) Paragrafın konusu nedir, neden bahsedilmektedir?

b) Bayram sabahı, kahvaltı nerede yapılmış?

c) Bayram hazırlığı olarak neler yapılmıştır?

ç) "İnsanlar arasındaki bağlar kuvvetleniyor." cümlesi kaç heceden oluşur?

d) "Neden sadece iki tane dini bayramımız var ki." cümlesi kaç sözcükten oluşur?

e) " Hâlbuki ne güzel günler bu günler. " cümlesi kaç harften oluşur?

S4. Karışık olarak verilen hecelerle,sözcük oluşturalım.

le - bah - yin - sa	he - li - can - ye

FEN BİLİMLERİ

- S1. I. Eski insanlar Dünya'yı düz bir tepsi olarak düşünüyorlardı.
II. Eski Mısırlılar Dünya'nın büyükçe bir kutu olduğuna inanıyordu.
III. İnsanlar en eski çağlardan beri Dünya'nın şeklini doğru olarak biliyorlardı.

Yukarıda verilen bilgilerden hangisi ya da hangileri doğrudur?

- a) I, II b) II, III c) I, II, III

S2. Aşağıda Dünya'nın şeklinin ispatı ile ilgili ifadelerden hangisi doğrudur?

- a) Dünya, yuvarlak olduğu için yüzeyinde sular karalardan daha çok yer kaplar.
b) Ay ve Güneş, yuvarlak olduğuna göre Dünya da yuvarlaktır.
c) Dünya, yuvarlak olduğu için ufukta gökyüzü ve yer yüzü birleşiyormuş gibi görünür.

S3. " Dünya'da gözlenemeyen.....katman vardır." cümlesinde noktalı yere aşağıdakilerden hangisi yazılmalıdır?

- a) iki b) üç c) dört

S4. Gözlerimizin sağlığı açısından verilen bilgilerden hangisi yanlıştır?

- a) Televizyonu uzun süre ve yakından izlememeliyiz.
b) Hiçbir zaman ağlamamalıyız.
c) Gözümüzü aşırı ışıktan korumalıyız.

S5. " Banu, sınıfa girer girmez en iyi arkadaşı Gamze'nin saçını kestirdiğini hemen fark etti."

Banu, bunu hangi duyu organı sayesinde anlamış oldu?

- a) Kulak b) Göz c) Deri

S6. Duyu organlarımızdan hangisi vücudumuzun sadece baş bölgesinde bulunmaz?

- a) dil b) deri c) kulak

S7. Anneannesinin çıkarmış olduğu battaniyeyi çok beğenen Jale, "Çok yumuşak ve güzel desenleri var." demişti. Jale, bu yorumu yaparken hangi duyu organını kullanmıştır?

- a) göz-deri b) deri-burun c) göz-kulak

S8. Duvara çivi çakan bir ustanın aşağıdaki duyu organlarından hangisini kullanmasına gerek yoktur?

- a)  b)  c) 